

Objetivo de la clase: Calcular Perímetro y Área


Guía de reforzamiento

Desarrolla las siguientes actividades en tu cuaderno.

1.- Construye una circunferencia con las medidas indicadas.


- a) diámetro 7 cm.
- b) radio 5cm.


2.- Calcula el perímetro y área de las siguientes circunferencias:




3.- En las siguientes figuras, dibuja lo que se pide en cada una:

a.- Diámetro: 

b.- Radio: 

c.- Corona circular: 

d.- Segmento circular: 

4.- Resuelve los siguientes problemas:

a.- La rueda de un camión tiene 90 cm de radio. ¿Cuánto avanza el camión en una vuelta?
y ¿cuánto recorre al dar 50 vueltas?

b.- Se quiere pintar una mesa de forma circular que tiene un radio de 110 cm. ¿Cuál es el
total de la superficie que se desea pintar?