

**Guía N° 30 de Matemáticas: Leer la hora en relojes digitales y análogos**

Nombre:

Clase N° 2

Fecha:      - 11 - 2020




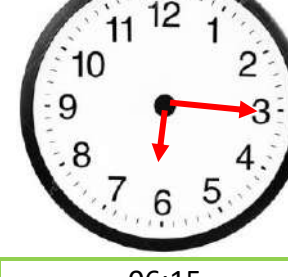
Curso: 3° B



OA: Leer y registrar el tiempo en horas, medias horas, cuartos de horas y minutos en relojes análogos y digitales.

1. – Dibuja las manillas de cada reloj según la hora señalada y llena los casilleros en blanco.

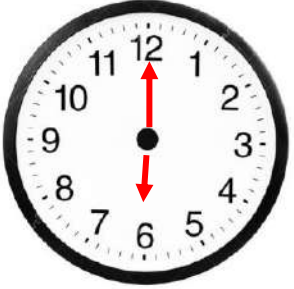

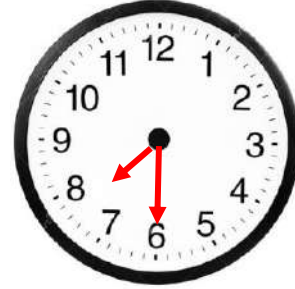

EJEMPLO			
			
05:00	03:00	<b>11:00</b>	12:00
Cinco en punto	Tres en punto	Once en punto	Doce en punto

			
<b>09:30</b>	01:30	06:30	<b>12:30</b>
Nueve y media	<b>Una y media</b>	<b>Seis y media</b>	Doce y media

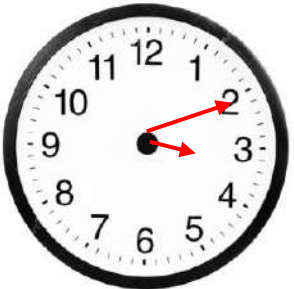

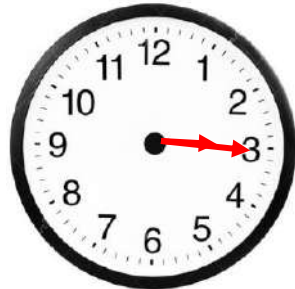

			
<b>04:15</b>	07:15	08:15	06:15
Cuatro y cuarto	<b>Siete y cuarto</b>	<b>Ocho y cuarto</b>	<b>Seis y cuarto</b>

			
<b>01:45</b>	03:45	<b>02:50</b>	09:55
Un cuarto para las dos	<b>Un cuarto para las cuatro</b>	Diez para las tres	<b>Cinco para las diez</b>

2.- Escribe con palabras y números la hora que marca cada reloj:

			
<b>06:00</b>	<b>04:45</b>	<b>07:30</b>	<b>09:15</b>
<b>Seis en punto</b>	<b>Un cuarto para las cinco</b>	<b>Siete y media</b>	<b>Nueve y cuarto</b>

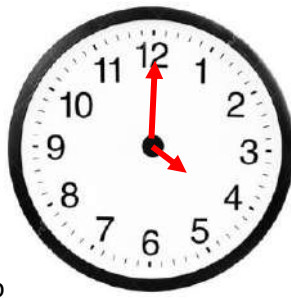
			
<b>05:05</b>	<b>06:30</b>	<b>01:50</b>	<b>07:00</b>
<b>Cinco y cinco</b>	<b>Seis y media</b>	<b>Diez para las dos</b>	<b>Siete en punto</b>

			
<b>03:10</b>	<b>11:50</b>	<b>03:15</b>	<b>09:45</b>
<b>Tres y diez</b>	<b>Diez para las doce</b>	<b>Tres y cuarto</b>	<b>Un cuarto para las diez</b>

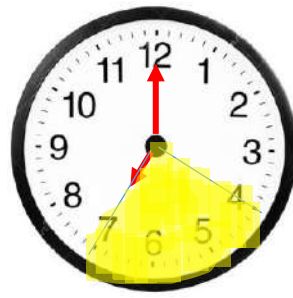
			
<b>08:05</b>	<b>10:10</b>	<b>07:40</b>	<b>06:15</b>
<b>Ocho y cinco</b>	<b>Diez y diez</b>	<b>Veinte para las ocho</b>	<b>Seis y cuarto</b>

3.- Resuelve los siguientes problemas:

a) Una película en el cine comenzó a las 04:00 de la tarde y terminó a las 07:00 de la tarde. ¿Cuál fue la duración de la película?




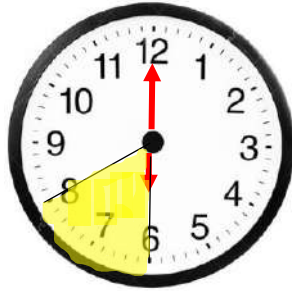
Inicio



Termino

**Respuesta: La película duró 3 horas.**

b) Javier anduvo en bicicleta durante 2 horas. Comenzó a andar a las 06:00 ¿A qué hora terminó de andar?



**Respuesta: Terminó a las 08:00 horas.**

c) Renata tocó metalófono desde las 11:10 hasta las 11: 55.

¿Cuánto tiempo transcurrió?



**Respuesta: transcurrió 45 minutos**