

Objetivo de la clase: Calcular perímetro.

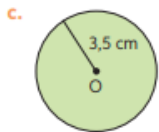
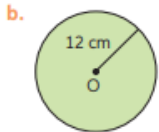
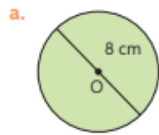
Guía de trabajo

Desarrolla las siguientes actividades en tu cuaderno.

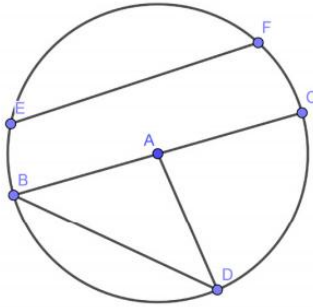
1.- Construye una circunferencia con las medidas indicadas.

- a) diámetro 4 cm.
- b) radio 3cm.

2.- Calcula el perímetro de las siguientes circunferencias:



3.- Según la siguiente figura, identifica a que elemento de la circunferencia corresponde cada recta.



EF =

BC =

AD =

BD =

4.- En una piscina circular se desea colocar una reja. Si la piscina tiene 8 m de diámetro, ¿cuántos metros de reja se deben comprar?