

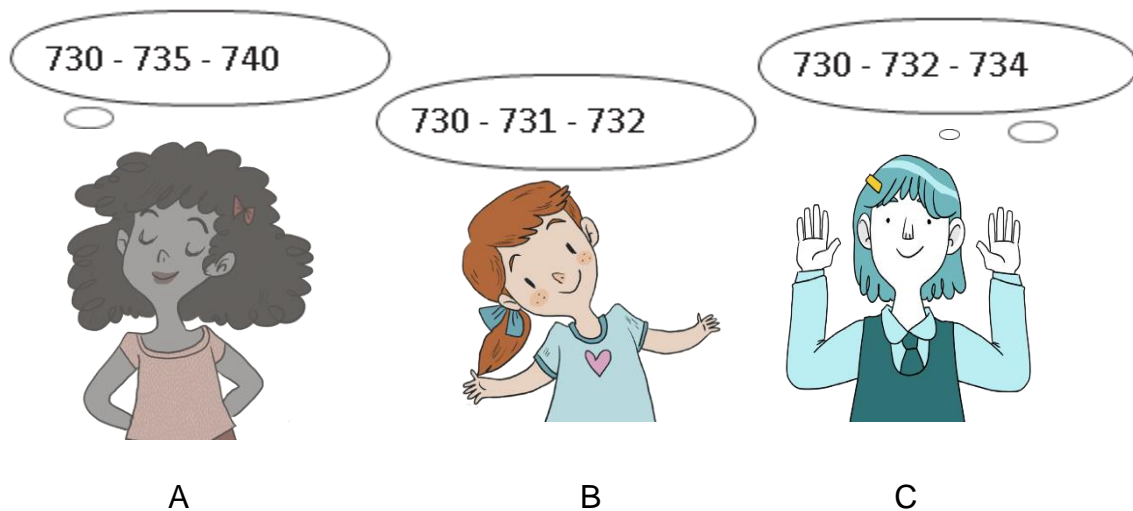
EVALUACIÓN FORMATIVA DE MATEMÁTICAS
SEGUNDOS BÁSICOS

I.- SELECCIONA LA ALTERNATIVA CORRECTA.

1.- ¿En qué opción los números van de 10 en 10, partiendo del 400?

- A) 400, 401, 402
- B) 400, 410, 420
- C) 400, 500, 600

2.- ¿Cuál de las siguientes niñas cuenta de 2 en 2 partiendo del 730?



The illustration shows three girls, labeled A, B, and C, each with a thought bubble above them. Girl A has a thought bubble containing the sequence "730 - 735 - 740". Girl B has a thought bubble containing "730 - 731 - 732". Girl C has a thought bubble containing "730 - 732 - 734".

A

B

C

3.- Multiplica 4 por 7, ¿Cuál es el resultado?

- A) 11
- B) 26
- C) 28

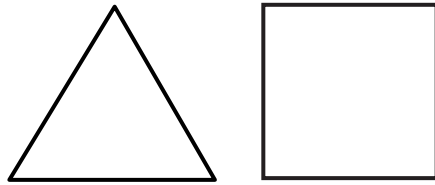
4.- Thiago hace 4 ramos con flores del bosque. Cada ramo tiene 10 flores. ¿Cuántas flores reunió Thiago en total?

- A) 14
- B) 40
- C) 36

5.- Martina tiene 21 chocolates para 3 amigos. A los 3 amigos les regala la misma cantidad de chocolates. ¿Cuántos chocolates recibe cada amigo?

- A) 7
- B) 27
- C) 24

6.- Observa las figuras:



¿Cuál de estas afirmaciones es **falsa**?

- A) Ambas son figuras cerradas.
- B) Ambas están formadas por líneas rectas.
- C) Ambas tienen la misma cantidad de lados.

7.- ¿Qué figura geométrica tiene 4 lados de igual longitud?

- A) Cuadrado
- B) Rectángulo
- C) Triángulo

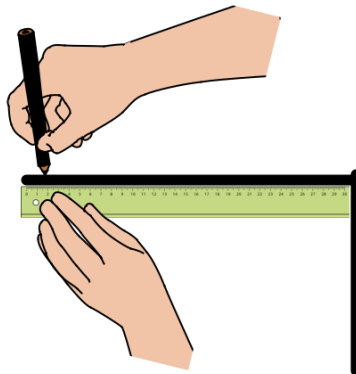
8.- Observa la imagen:



¿Cuál de estas figuras geométricas se asemejan a los edificios?

- A) Círculo.
- B) Cuadrado.
- C) Rectángulo.

9.- Usando una regla, Gabriel marcó 2 líneas negras:



¿Cuántas líneas más debe hacer para dibujar un triángulo?

- A) 1
- B) 2
- C) 3

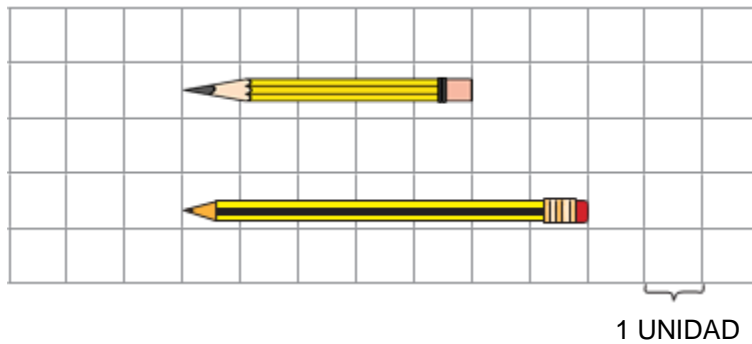
10.- Observa el lápiz y el clip:



¿Cuántos clips uno al lado del otro miden lo mismo que el lápiz?

- A) 4
- B) 7
- C) 6

11.- ¿Cuántas unidades más mide el lápiz largo que el lápiz corto?



- A) 7 unidades
- B) 5 unidades
- C) 2 unidades

12.- La distancia entre el colegio y la plaza es de 78 m. La distancia entre el colegio y la iglesia es de 92 m. ¿Qué construcción está más cerca del colegio?

- A) La plaza
- B) La iglesia
- C) El hospital

13.- ¿Cuántos cm mide el dibujo de este pegamento aproximadamente?

- A) Más de 20 cm
- B) Menos de 3 cm
- C) Más de 4 cm



14.- Jessica tiene una cinta de 200 cm de largo. Ella utiliza 125 cm. ¿Cuál es el largo de la cinta que le queda?

- A) 85 cm
- B) 65 cm
- C) 75 cm