

EVALUACIÓN FORMATIVA DE MATEMÁTICAS
TERCER AÑO A

I.- SELECCIONA LA ALTERNATIVA CORRECTA.

1.- Es un cuerpo geométrico que tiene todas sus caras iguales.

- A) Triángulo.
- B) Cuadrado.
- C) Cubo.
- D) Cilindro.

2.- El par de figuras geométricas que tiene la misma cantidad de lados es:

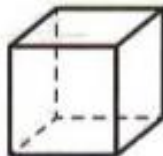
- A) Cuadrado y triángulo.
- B) Cuadrado y rectángulo.
- C) Rectángulo y triángulo.
- D) Círculo y cuadrado.

3.- ¿Cuántas caras tiene una pirámide?

- A) 5
- B) 4
- C) 6
- D) 3

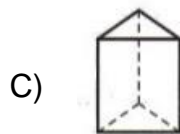
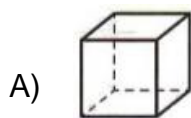
4.- ¿Cuántas aristas tiene un cubo?

- A) 6
- B) 12
- C) 16
- D) 24



5.-Cuál de los cuerpos que aparecen dibujados a continuación, tiene las siguientes características:

- Tiene 8 vértices.
- Tiene 6 caras.
- Sus caras no son iguales.

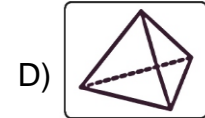


6.- Adivina en qué cuerpo está pensando Daniela.

Éstas son las pistas:

- Es un poliedro
- Con una cara basal (base) en forma cuadrada.
- Sus caras laterales son todas triangulares y se unen en un punto llamado cúspide (punta).

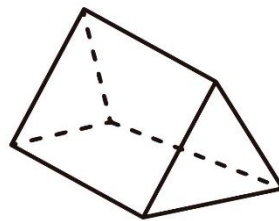
¿En qué cuerpo geométrico está pensando Daniela?



7.- Observa este prisma:

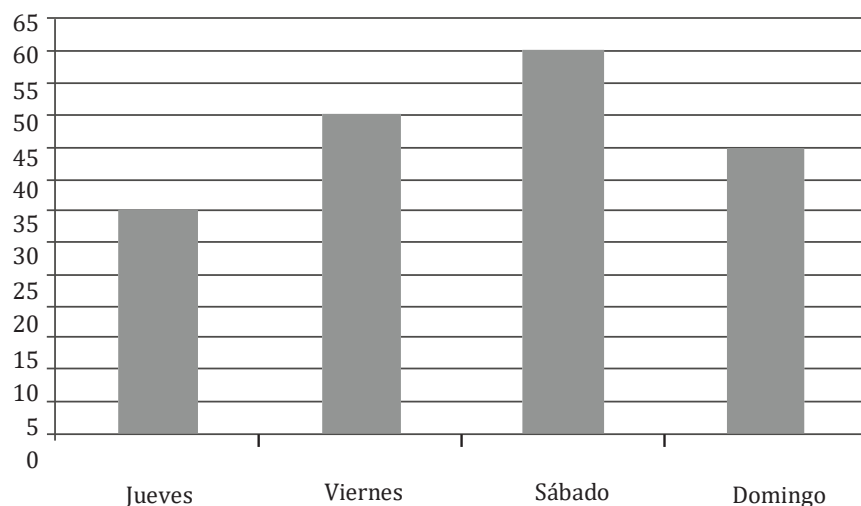
Marca la alternativa correcta:

- A) Tiene 9 caras, 5 aristas y 6 vértices.
- B) Tiene 5 caras, 9 aristas y 6 vértices.
- C) Tiene 5 caras, 6 aristas y 9 vértices.
- D) Tiene 6 caras, 6 aristas y 6 vértices.



Utiliza la siguiente información para responder las preguntas 8 y 9.

El siguiente gráfico muestra información acerca de la cantidad de personas que fueron al teatro durante 4 días:



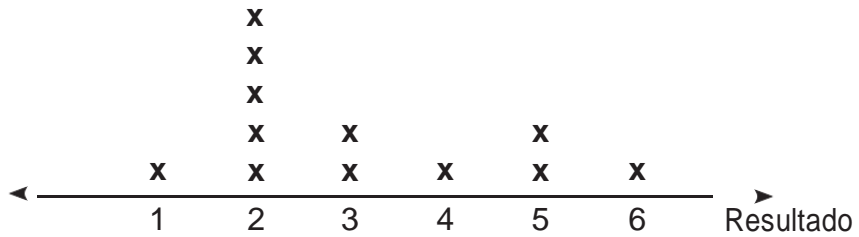
8.- ¿Cuántas personas fueron el viernes?

- A) 35
- B) 50
- C) 60
- D) 85

9.- ¿Cuántas personas más fueron el día sábado que el día jueves?

- A) 25
- B) 35
- C) 60
- D) 95


10.- Cecilia lanzó un dado 20 veces, pero olvidó anotar algunos resultados. Observa lo que anotó:



¿Cuántos resultados olvidó anotar?

- A) 2
- B) 8
- C) 12
- D) 14

11.- Observa la siguiente imagen:



Tipos de vehículos	autos	motos	camiones de minería	camiones	bicicletas
Cantidad de vehículos	6				1

¿Qué datos faltan para completar correctamente la tabla?

- A) 6 motos, 3 camiones de minería y 2 camiones.
- B) 4 motos, 3 camiones de minería y 2 camiones.
- C) 3 motos, 3 camiones de minería y 1 camión.
- D) 3 motos, 3 camiones de minería y 2 camiones.

12.- Tomás lleva el registro de las tareas en una tabla que hasta el momento realizó para Lenguaje, Matemática, Ciencias Sociales y Ciencias Naturales.

Curso	Cantidad de tareas
Lenguaje y Comunicación	
Matemática	
Ciencias Sociales	
Ciencias Naturales	

¿Cuántas tareas ha realizado Tomás hasta el momento?

- A) 26
- B) 27
- C) 31
- D) 33

Observa la tabla y responde las preguntas 13 y 14.

Diego, Loreto, Juan y Sonia venden helados.

La siguiente tabla muestra el número de helados vendidos por cada uno un fin de semana.

	Helados de leche			
	Diego	Loreto	Juan	Sonia
Sábado	14	27	32	11
Domingo	25	18	5	10

13.- ¿Quién vendió más helados el día sábado?

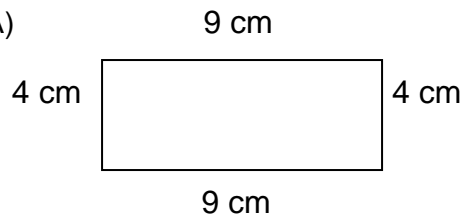
- A) Juan
- B) Loreto
- C) Diego
- D) Sonia

14.- ¿Cuántos helados más vendió Sonia que Juan el día domingo?

- A) 43
- B) 21
- C) 15
- D) 5

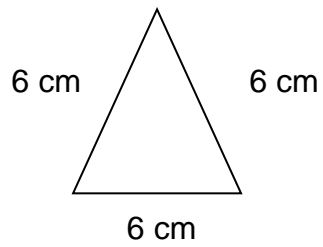
II.- Calcula el perímetro de las siguientes figuras regulares y no regulares.

A)



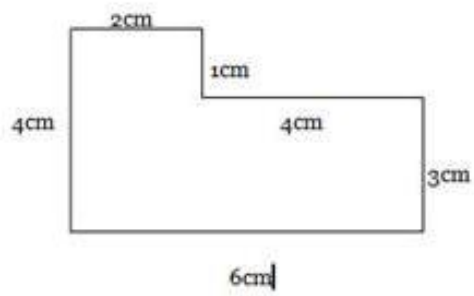
P = _____

B)



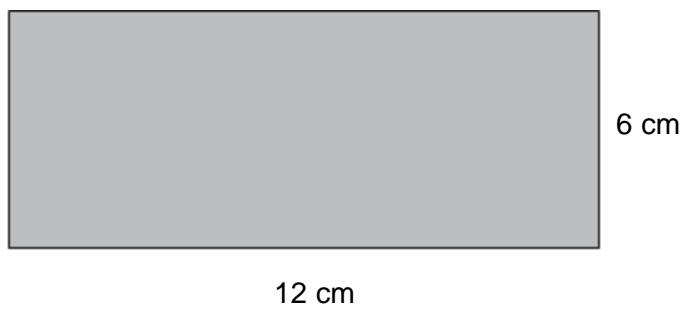
P = _____

C)



P = _____

D)



P = _____

Evaluación Formativa Septiembre 3ero Básico

Nombre alumno/a:

Curso: 3ero Básico A - B

Asignatura: Educación Física

Mes: Octubre

Objetivo: El siguiente instrumento presenta la finalidad de conocer los aprendizajes logrados durante el mes de Octubre-Septiembre

Indicaciones: *Elegir un baile de los aprendidos durante Septiembre (La Trastrasera, Vida saludable) y Octubre (Tusuy Kusun Perú o Moliendo café Venezuela) y ejecutar secuencia, respetando requerimientos básicos rítmicos, de expresión y coordinación.*

	<i>Indicadores</i>	<i>Siempre</i>	<i>Casi siempre</i>	<i>A veces y/o regularmente</i>	<i>Nunca y/o deficiente</i>
<i>“Baile elegido”</i>	Lograste realizar los pasos que el baile presenta				
	Logras seguir el ritmo musical				
	Logras coordinar los pasos con la música				
	Lograste ejecutar el baile por completo.				
	Demuestras diversos sentimientos a través del movimiento				
	Mantienes hábitos de vida saludable, tales como actividad y alimentación				

	adecuada.				
Observaciones generales:					

Enviar información correo institucional claudia.huerta@laprovidenciarecoleta.cl

¡Gracias por tu colaboración!