







## ¿Qué es la localización absoluta y cómo describirla?

### 1 Observa y responde.

Luis tiene su habitación un poco desordenada y desea encontrar algunos de sus juguetes. Escribe las coordenadas de cada uno de ellos.

	A	B	C	D	
1					 <input type="text"/>
2					 <input type="text"/>
3					 <input type="text"/>
4					 <input type="text"/>
					 <input type="text"/>
					 <input type="text"/>

### 2 Reunidos en parejas, cada uno dibuje en su tabla monedas de \$10 en 7 lugares diferentes. Cada estudiante debe indicar un casillero mencionando sus coordenadas y tratando de adivinar la ubicación de una de las monedas. Gana quién encuentre todas las monedas primero.

	A	B	C	D
1				
2				
3				
4				

Cantidad de rondas

Dinero reunido