



Nombre	
Apellido	
Curso:	1º B
Fecha:	

- Secuenciar acontecimientos y actividades de la vida cotidiana.
- Chile en mapas, incluyendo la cordillera de los Andes y el Océano Pacífico.
- Las instituciones públicas.

NIVEL DE DESEMPEÑO		
ADECUADO (22 A 25 PUNTOS)	ELEMENTAL (14 A 21 PUNTOS)	INSUFICIENTE (1 A 14 PUNTOS)

CONOCIMIENTO (1pt)

Escucha atentamente la lectura de las preguntas y contesta seleccionado la alternativa correcta. Marca con un X.

1. Indica. ¿Quién nos puede ayudar a solucionar el problema?



a) Zapatero

b) Gasfiter

c) Enfermera

2. Identifica. ¿A quién llamaríamos para pedir ayuda?



a) Enfermera

b) Panadero

c) Gasfiter

3. Identifica. ¿A quién llamaríamos para pedir ayuda?



a) Gasfiter

b) Zapatero

c) Carpintero

4. Indica. ¿Cómo se llama esta institución?




a) Cuerpo
bombero de

b) Consultorio

c) Carabinero de
chile

5. Identifica. ¿Qué institución es?




a) Carabineros de Chile

b) Cuerpo de bomberos

c) Municipalidad

6. Nombra. ¿Cómo se llama esta institución?



a) Policía de investigación

b) Cuerpo de bombero de chile

c) Carabineros de Chile

d)

7. ¿Cómo se llama la **CAPITAL** de Chile?

a) Arica

b) Santiago

c) Valdivia

8. ¿Cómo se llama la **REGIÓN** dónde vives?

a) Metropolitana

b) Araucanía

c) Tarapacá

9. ¿Dónde se ubica **Chile**?

a) Entre la cordillera de los Andes y el océano pacifico

b) Entre la cordillera de los Andes y el océano Atlántico

c) Entre la cordillera de los Andes y el Océano Indico

10. ¿Dónde se ubica el **OCÉANO PACÍFICO** en un mapa de Chile?

a) Costado de Chile

b) Arriba de Chile

c) Debajo de Chile

11. ¿Cómo es la forma de CHILE ?		
a) Ancha y corta faja de tierra	b) Angosta y larga faja de tierra	c) Redonda faja de tierra

Identifica **categoría de tiempo** según corresponda

12. La categoría HOY corresponde a:		
a) antes	b) ahora	c) después

13. La categoría SEMANA PASADA corresponde a:		
a) antes	b) ahora	c) después

14. La categoría MAÑANA corresponde a:		
a) antes	b) ahora	c) después d)

15. La categoría ESTE AÑO corresponde a:		
a) antes	b) ahora	c) después

16. Identifica. En el pasado yo fui un:		
a) Adulto	b) Bebe	c) Anciano

17. Identifica. En el presente yo soy un _____		
a) Niño	b) Adulto	c) Bebé

18. Indica. Los días de la semana son:		
a) 10	b) 7	c) 5


19. Indica. Antes del día martes es:		
a) miércoles	b) lunes	c) viernes


20. Indica. Después del día sábado viene el día:		
d) domingo	e) lunes	martes


21. Identifica ¿Cuántos meses tiene un año?		
d) 7 meses	e) 9 meses	f) 12 meses

Observa y ordena, colocando los números del 1 al 4 en los cuadros correspondientes.

22.






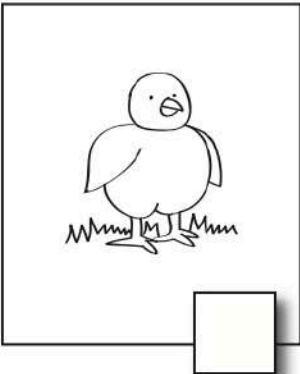




23.











24.









Prof. Francesca Flores M.

25. Identifica a Chile en el siguiente mapa y píntalo de color rojo.

