

5°A

ACTIVIDAD N°7

27 AL 31 de julio
PROFESORA CONSTANZA NIÑO

“REVISANDO LOS CUADROS RESUMEN: CHILE Y SUS ZONAS NATURALES”

(Objetivo Priorizado) OA 9 Caracterizar las grandes zonas de Chile y sus paisajes (Norte Grande, Norte Chico, Zona Central, Zona Sur y Zona Austral),

INSTRUCCIONES:

1.- Observa los cuadros resumen de Chile y sus zonas naturales que realizaron tus compañeros Alonso y Nicolás. Ambos trabajos lograron un desempeño alto y destacado.

Es importante señalar que gran parte de los trabajos enviados obtuvieron un desempeño alto.

2.- Responde las preguntas de la página N°4 del Word en relación a los cuadros resúmenes realizados por tus compañeros (esta actividad no se envía al correo)











"CUADRO RESUMEN: CHILE Y SUS ZONAS NATURALES"

NOMBRE ESTUDIANTE: Nicolás Vásquez Unda

ZONAS NATURALES DE CHILE	Nº DE REGIONES	CAPITALES REGIONALES	CLIMAS	ACTIVIDAD ECONÓMICA (AE) Y RECURSO NATURAL (RN):	PAISAJE NATURAL DE LA ZONA <small>IMAGEN O DIBUJO/NOMBRE</small>	PAISAJE CULTURAL TÍPICO DE LA ZONA <small>IMAGEN O DIBUJO/NOMBRE</small>
NORTE GRANDE	XV, I y II	Arica (XV), Iquique (I) Antofagasta (II)	Árido	AE: Minería RN: Cobre	El Morro de Arica 	LA FIESTA DE LA TIRANA 
NORTE CHICO	III, IV	Copiapó (III), La Serena (IV)	Semi árido	AE: agricultura y extracción de minerales RN: pisco, aceite de olivas, hierro y cobre	Valle del Elqui 	Fiesta San Pedro de los Vilos 
ZONA CENTRAL	V, RM, VI, VII, XVI y VIII	Valparaíso (V), Santiago (RM), Rancagua (VI), Talca (VII), Chillán (XVI), Concepción (VII)	Templado mediterráneo	AE: agricultura, ganadería y explotación forestal RN: frutas, verduras, carnes y tala de arboles	Cajón del Maipo 	Carnaval Cultural de Valparaíso 
ZONA SUR	IX, XIV y X	Temuco (IX), Valdivia (XIV), Puerto Montt (X)	Templado lluvioso	AE: Ganadería, Agricultura, explotación forestal, turismo y ecoturismo RN: carnes, frutas, verduras y tala de arboles	Cordillera de Nahuelbuta 	We tripantu (Año nuevo Mapuche) 
ZONA AUSTRAL	XI y XII	Coyhaique (XI), Punta Arenas (XII)	Marítimo lluvioso Templado frío	AE: Pesca, ganadería y mineros RN: carnes, piel de animal y petróleo.	TORRES DEL PAINE 	Carnaval de Invierno (Pta. Arenas) 

"CUADRO RESUMEN: CHILE Y SUS ZONAS NATURALES"

NOMBRE ESTUDIANTE: *Alonso Pino*

ZONAS NATURALES DE CHILE	N° DE REGIONES	CAPITALES REGIONALES	CLIMAS	ACTIVIDAD ECONÓMICA (AE) Y RECURSO NATURAL (RN):	PAISAJE NATURAL DE LA ZONA IMAGEN O DIBUJO/NOMBRE	PAISAJE CULTURAL TÍPICO DE LA ZONA IMAGEN O DIBUJO/NOMBRE
NORTE GRANDE	XV, I, II.	Arica (XV) Iquique (I) Antofagasta (II)	arido y desértico	AE: Minería RN: Cobre	<i>Desierto de Atacama</i> 	LA FIESTA DE LA TIRANA 
NORTE CHICO	III, IV	Copiapó (III) La Serena (IV)	Semi arido y semi desértico	AE: agricultura RN: uva	<i>Valle del Maipo</i> 	El Goro 
ZONA CENTRAL	V, RM, VI, VII, XVI y VIII	Valparaíso (V), Santiago (RM), Rancagua (VI), Talca (VII), Chillán (XVI), Concepción (VII)	templado y mediterráneo	AE: agricultura RN: duraznos	<i>Playa de Iloco</i> 	La Moneda 
ZONA SUR	IX, XIV, X	Temuco (IX) Valdivia (XIV) Puerto Montt	Templado lluvioso	AE: ganadería RN: vacas	<i>Puerto Montt</i> 	Palafitos Chiloé 
ZONA AUSTRAL	XI, XII	Coyhaique (XI) Punta Arenas (XII)	templado frío	AE: minería energética RN: petróleo	TORRES DEL PAINE 	Cueva del Milodon 

EN RELACIÓN A LOS CUADROS RESUMEN DE CHILE Y SUS ZONAS NATURALES RESPONDE LAS PREGUNTAS DE MANERA COMPLETA.

PREGUNTAS	RESPUESTAS
1.- ¿Por qué Chile tiene diferentes climas?	
2.- ¿Qué actividad económica y que recurso natural se debería potenciar y fomentar más en nuestro país? Fundamenta	
3.- ¿Te Parece apropiado que Chile tenga 16 regiones? Fundamenta	
4.- Señala el nombre de las capitales regionales que hayas visitado.	
5.- ¿Por qué se dice que Chile es un país rico en diversidad natural y cultural?	
6.- ¿En qué zona natural de Chile se te haría más difícil vivir? Fundamenta	
7.- ¿En qué zona natural de Chile te gustaría vivir? Fundamenta	