

HISTORIA 4° BÁSICOS

SEMANA 15 AL 19 de junio

GUIA N°1

“Repasando Aprendizajes Remotos”

De acuerdo, a las 2 evaluaciones virtuales realizadas por los y las estudiantes durante mayo y junio, los aprendizajes más bajos fueron:

- a) Localizar coordenadas geográficas (latitud y longitud)
- b) Paisajes de América

En esta guía y durante esta semana volveremos a repasar estos contenidos.

Importante:

Si no tienes impresora para imprimir la guía, no te preocupes, puedes registrar y resolver las actividades en tu cuaderno.

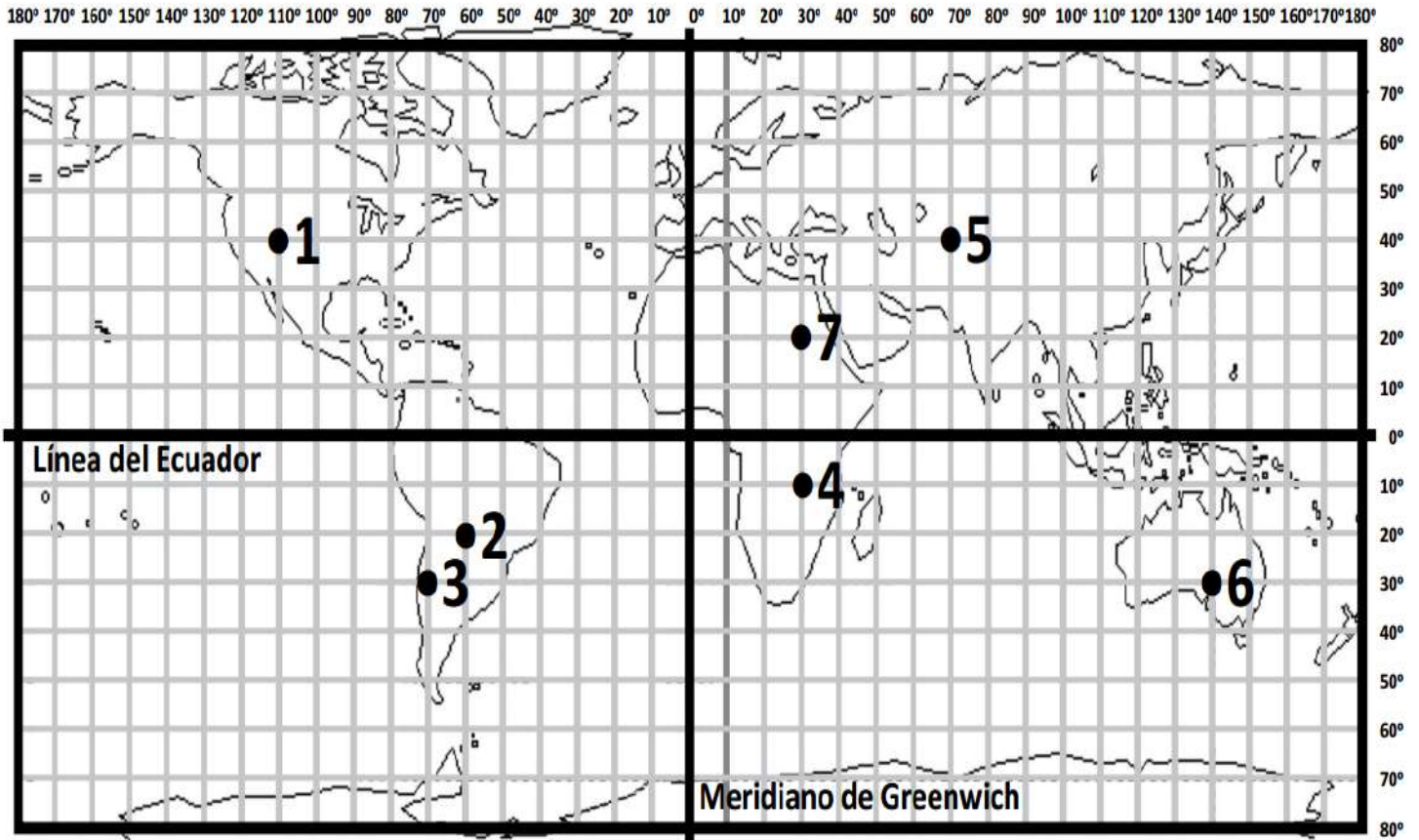
Esta guía no se envía al correo, ya que les enviaré la corrección con respuestas ejemplares el jueves 18 de junio.

LOCALIZACIÓN MATEMÁTICA O ABSOLUTA



La ubicación matemática o absoluta de un punto es la localización, indicando al mismo tiempo la latitud y la longitud

La latitud se escribe con número y grado (paralelo) y se indica si es norte o sur. La longitud se escribe con número y grado (meridiano) y se indica si es oeste o este.



Determina la localización matemática de los puntos dibujados en el planisferio, escribiendo la latitud y longitud que corresponda en el cuadro siguiente

PUNTO	LATITUD (Distancia en grados del ecuador)	NORTE O SUR	LONGITUD (Distancia en grados del meridiano de Greenwich)	ESTE U OESTE
1	40°	Norte	110°	Oeste
2				
3				
4				
5				
6				
7				

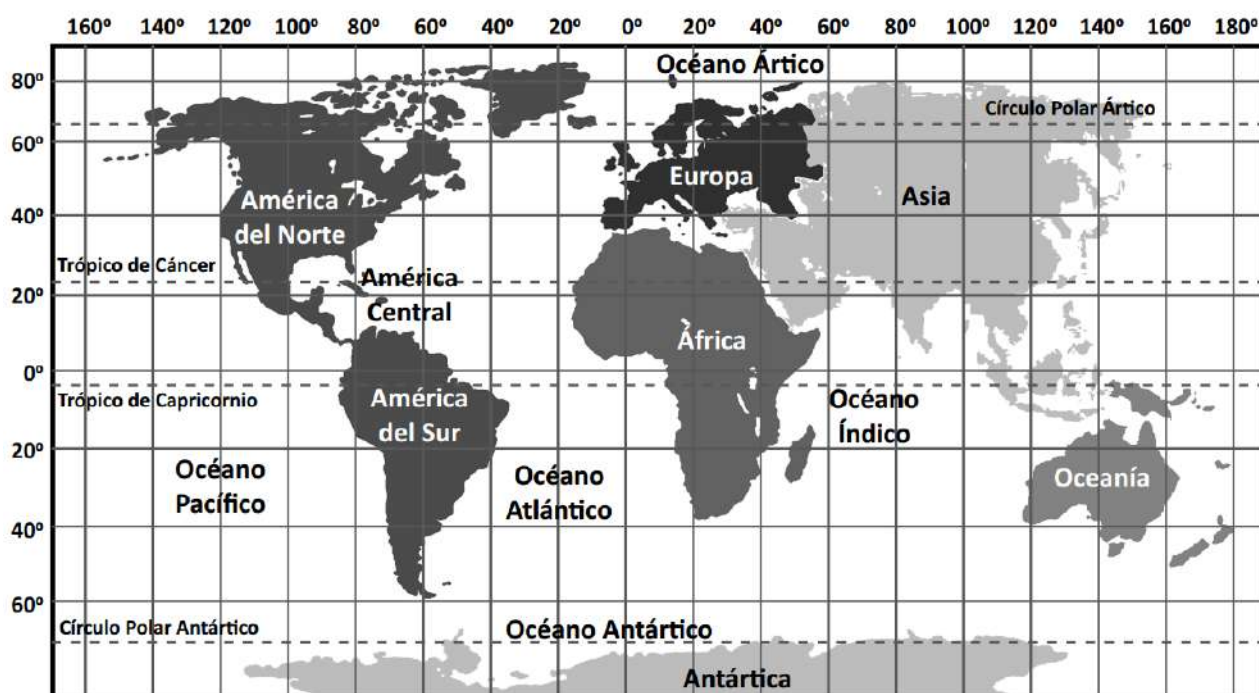
MERIDIANOS Y LONGITUD



La **longitud** es la distancia medida en grados que hay entre un lugar y el **Meridiano de Greenwich**.

Para calcular la longitud hay que determinar cuántos meridianos (grados) hay entre el lugar y el Meridiano de Greenwich.

También, especificar el hemisferio, ya que la longitud puede ser **oeste** o **este**, según si el lugar está al oeste o al este del Meridiano de Greenwich.



Observe el mapa y responda marcando con una X en la columna que corresponda

	V	F
1. Todos los territorios del continente americano tienen longitud oeste.		
2. África y Europa tienen territorios en los hemisferios este y oeste.		
3. Cualquier lugar del continente asiático tiene longitud este.		
4. Cualquier punto del océano Glaciar Ártico tiene longitud oeste.		
5. Cualquier punto del océano Índico tiene longitud este.		

En la siguiente red de coordenadas geográficas trazada sobre nuestro continente, ubica los siguientes puntos y escriben los países a los que corresponde cada ubicación. (1 punto c/u)



10. Latitud 20° norte / Longitud 100° oeste.

México

11. Latitud 0° / Longitud 60° oeste.

12. Latitud 40° norte / longitud 100° oeste.

13. Latitud 20° sur / Longitud 60° oeste.

14. Latitud 60° norte / Longitud 100° oeste.




15. Latitud 80° norte / Longitud 40° oeste.


16. Latitud 0° / Longitud 80° oeste.

17. Latitud 60° norte / Longitud 160° oeste.

Observa el mapa anterior y completa (1 punto c/u)

OBSERVA EL RECUADRO Y RESPONDE LAS PREGUNTAS

Zona climática	Países de América	Clima	Paisaje
Cálida	Ecuador (selva ecuatorial)	Clima ecuatorial Temperatura 23° - 25°	
Cálida	Colombia (Isla san Andrés)	Clima tropical Temperatura 23 – 29°	
Fría	Chile (Antártica)	Clima polar Temperatura -2° a 10°	
Templado	Estados unidos (california)	Clima mediterráneo Temperatura Varía entre 0° a 40° Depende de la estación que se encuentre (verano, otoño, primavera, verano)	
Templada	Chile (zona central)	Clima mediterráneo Varía entre 0° a 40° Depende de la estación que se encuentre (verano, otoño, primavera, verano)	

	Perú (cordillera blanca de los Andes)	Clima alta montaña Temperatura entre los 8° a la 20°	
--	---	--	--

Responde las preguntas con respuesta completa:

- 1.- ¿Por qué se dice que América NO tiene paisajes y climas Homogéneos?
- 2.- Desde el recuadro, ¿qué zona climática y qué clima es el más frío? Fundamenta.
- 3.- Desde el recuadro, ¿qué paisaje es más caluroso? Fundamenta.
- 4.- ¿Qué paisaje te gustaría visitar de América te gustaría visitar? Fundamenta.