





Guía N° 25 de Matemáticas: Algoritmo de la división

Nombre: _____		
Clase N° 1	Fecha: ____ - 06 - 2020	Curso: 4° ____
OA: aplicar el algoritmo de la división		

1.- Resuelve en tu cuaderno las siguientes divisiones utilizando el algoritmo y luego descubre la palabra oculta escribiendo las letras de acuerdo al código.



$78 : 4 = 19$

4

38

36

2

$47 : 5 = 9$

45

2

$72 : 3 = 24$

6

12

12

0

$36 : 6 = 6$

36

0

$85 : 6 = 14$

6

25

24

1

$96 : 7 = 13$

7

26

21

5

$50 : 2 = 25$

4

10

10

0

$64 : 5 = 12$

5

14

10

4