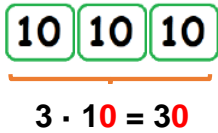
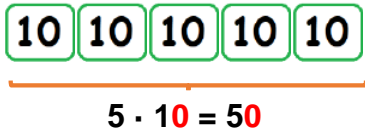
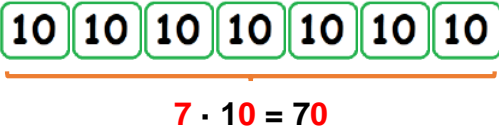
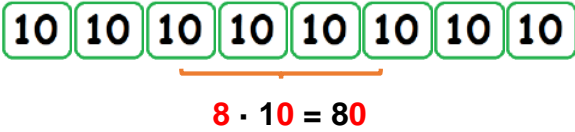


Guía N° 20 de Matemáticas: Multiplicando decenas

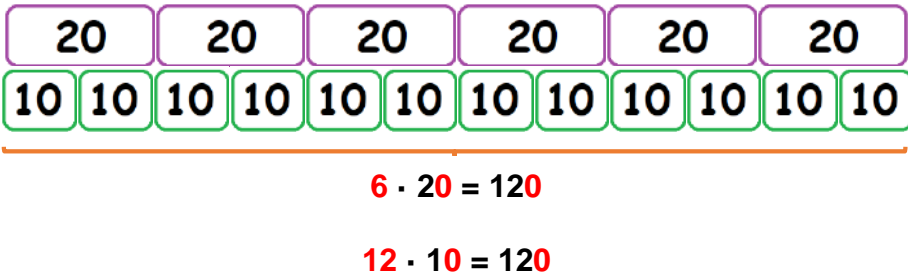
Nombre:		
Clase N° 1	Fecha: <u> </u> - 05 - 2020	Curso: 4° <u> </u>
OA: Demostrar que comprende la multiplicación de 2 dígitos por 2 dígitos: aplicando la estrategia de anexas ceros en el cálculo de ciertos productos		

1.- Multiplica las decenas.

a) Ejemplo: 	b) 
--	--

c) 	d) 
--	---

d)



2.- Calcula en la tabla de valor posicional.

	Centenas	Decenas	Unidades
7			7
7 · 10		7	0
9			9
9 · 10		9	0
10		1	0
10 · 10	1	0	0
12		1	2
12 · 10	1	2	0

3.- Explica con tus palabras que sucede cuando multiplicas por una decena terminada en 0.
Aumenta el valor posicional de cada uno de los dígitos.

Si multiplicas un número por 10 puedes agregar un cero a la derecha de este y así obtendrás el producto.