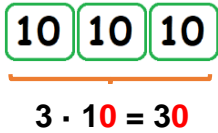
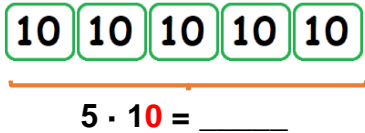
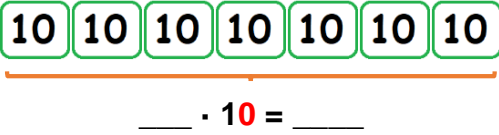
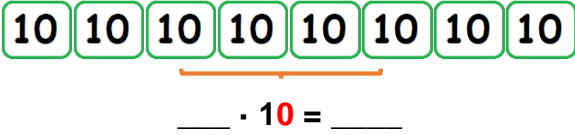


Guía N° 20 de Matemáticas: Multiplicando decenas

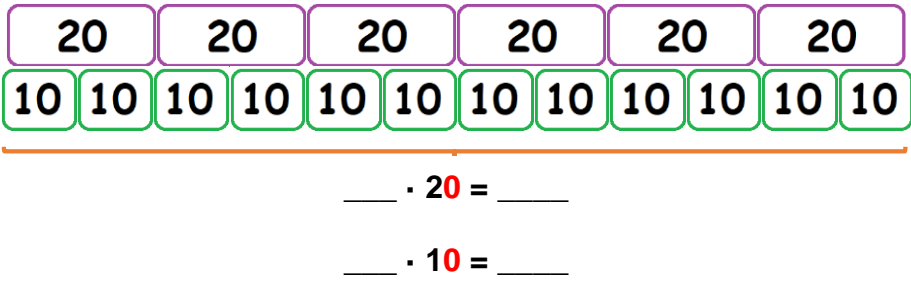
Nombre:		
Clase N° 1	Fecha: ___ - 05 - 2020	Curso: 4°
OA: Demostrar que comprende la multiplicación de 2 dígitos por 2 dígitos: aplicando la estrategia de anexas ceros en el cálculo de ciertos productos		

1.- Multiplica las decenas.

a) Ejemplo: 	b) 
--	--

c) 	d) 
--	---

d)



2.- Calcula en la tabla de valor posicional.

	Centenas	Decenas	Unidades
7			7
7 · 10		7	0
9			9
9 · 10			
10		1	0
10 · 10			
12		1	2
12 · 10			

3.- Explica con tus palabras que sucede cuando multiplicas por una decena terminada en 0.
