

3 BÁSICO HISTORIA

PROFESORA CONSTANZA NIÑO

CORRECCIÓN Y RESPUESTAS EJEMPLARES

PÁG. 12 A LA 17 / CUADERNILLO / GUÍA DE HISTORIA

Actividades del 11 al 15 de Mayo

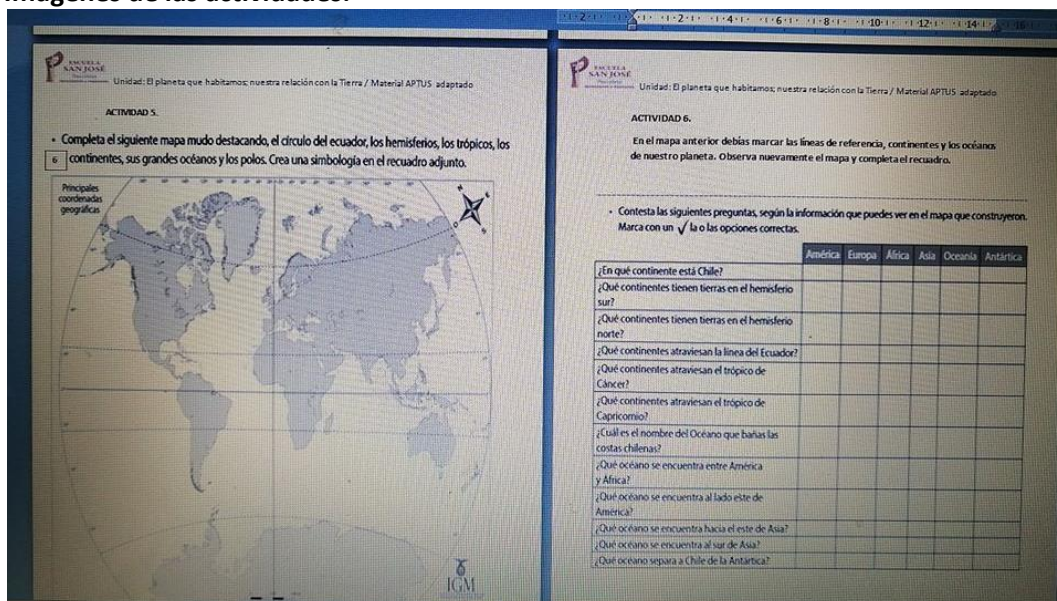
Ubicación espacial y líneas imaginarias del planeta

El planeta que habitamos; nuestra relación con la Tierra

OA 7 Distinguir hemisferios, círculo del Ecuador, trópicos, polos, continentes y océanos del planeta en mapas y globos terráqueos.

OA H E Orientarse en el espacio, utilizando referencias, categorías de ubicación relativa y puntos cardinales.

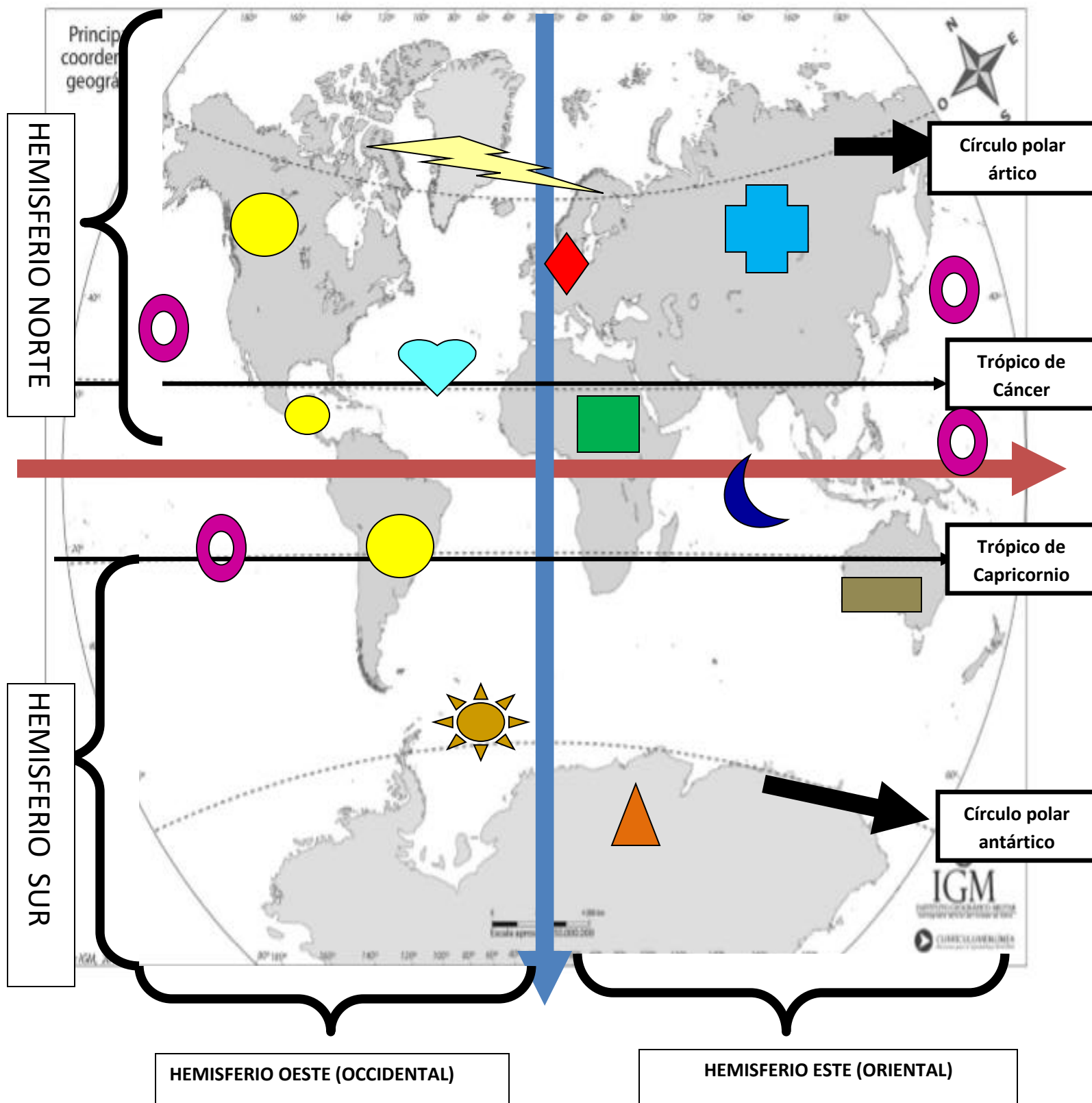
Imágenes de las actividades:











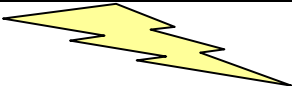




CORRECCIÓN CON RESPUESTAS EJEMPLARES

- Completa el siguiente mapa mudo destacando, el círculo del ecuador, los hemisferios, los trópicos, los continentes, sus grandes océanos y los polos. Crea una simbología en el recuadro adjunto.

6



SIMBOLOGÍA (continentes y océanos del planeta)

	Meridiano de Greenwich. Esta línea imaginaria divide la tierra en 2 hemisferios occidental (oeste) y oriental (este)
	Línea del Ecuador. Esta línea imaginaria divide la tierra en 2 hemisferios norte y sur.
	América. (América se divide en 3 sub continentes, el norte, el centro y el sur)
	Asia.
	Antártica.
	Europa
	África.
	Oceanía
	Océano glacial ártico
	Océano austral o antártico
	Océano pacifico
	Océano indico
	Océano atlántico

ACTIVIDAD 6.

En el mapa anterior debías marcar las líneas de referencia, continentes y los océanos de nuestro planeta. O simplemente hacer una simbología como lo realice yo.

Ahora Observa nuevamente el mapa y completa el recuadro.

- Contesta las siguientes preguntas, según la información que puedes ver en el mapa que construyeron. Marca con un ☒ la o las opciones correctas.

	América	Europa	África	Asia	Oceanía	Antártica
¿En qué continente está Chile?	<input checked="" type="checkbox"/>					<input checked="" type="checkbox"/>
¿Qué continentes tienen tierras en el hemisferio sur?	<input checked="" type="checkbox"/>		<input checked="" type="checkbox"/>	<input checked="" type="checkbox"/>	<input checked="" type="checkbox"/>	<input checked="" type="checkbox"/>
¿Qué continentes tienen tierras en el hemisferio norte?	<input checked="" type="checkbox"/>	<input checked="" type="checkbox"/>	<input checked="" type="checkbox"/>	<input checked="" type="checkbox"/>		
¿Qué continentes atraviesan la línea del Ecuador?	<input checked="" type="checkbox"/>		<input checked="" type="checkbox"/>	<input checked="" type="checkbox"/>		
¿Qué continentes atraviesan el trópico de Cáncer?	<input checked="" type="checkbox"/>		<input checked="" type="checkbox"/>	<input checked="" type="checkbox"/>		
¿Qué continentes atraviesan el trópico de Capricornio?	<input checked="" type="checkbox"/>		<input checked="" type="checkbox"/>	<input checked="" type="checkbox"/>	<input checked="" type="checkbox"/>	
¿Cuál es el nombre del Océano que baña las costas chilenas?	El océano que baña las costas chilenas es el océano pacifico					
¿Qué océano se encuentra entre América y África?	El océano que se encuentra entre América y áfrica es el océano atlántico					
¿Qué océano se encuentra al lado este de América?	El océano que se encuentra al lado este de América es el océano atlántico					
¿Qué océano se encuentra hacia el este de Asia?	El océano que está al lado este de Asia es el océano Pacifico					
¿Qué océano se encuentra al sur de Asia?	El océano que está al sur de Asia es el océano índico					
¿Qué océano separa a Chile de la Antártica?	El océano que separa a Chile de la antártica es el océano austral o antártico					