

## CORRECCIÓN Y AUTOEVALUACIÓN

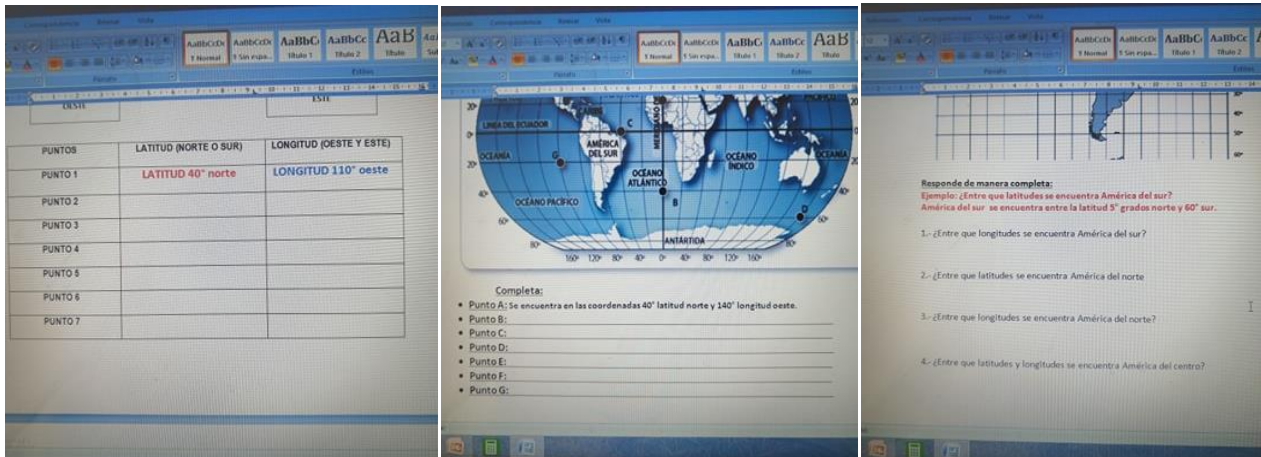
### PÁG. 12 – 17 /CUADERNILLO/GUÍA DE HISTORIA

Semana 4 (6 al 10 de abril)

### UNIDAD: América nuestro continente, diverso y generoso

**OA 6** Ubicar lugares en un mapa, utilizando coordenadas geográficas como referencia (Latitud y longitud)

Imágenes de las actividades:



| PUNTOS  | LATITUD (NORTE O SUR) | LONGITUD (OESTE Y ESTE) |
|---------|-----------------------|-------------------------|
| PUNTO 1 | LATITUD 40° norte     | LONGITUD 110° oeste     |
| PUNTO 2 |                       |                         |
| PUNTO 3 |                       |                         |
| PUNTO 4 |                       |                         |
| PUNTO 5 |                       |                         |
| PUNTO 6 |                       |                         |
| PUNTO 7 |                       |                         |

Completar:

- Punto A: se encuentra en las coordenadas 40° latitud norte y 140° longitud oeste.
- Punto B:
- Punto C:
- Punto D:
- Punto E:
- Punto F:
- Punto G:

Responde de manera completa:

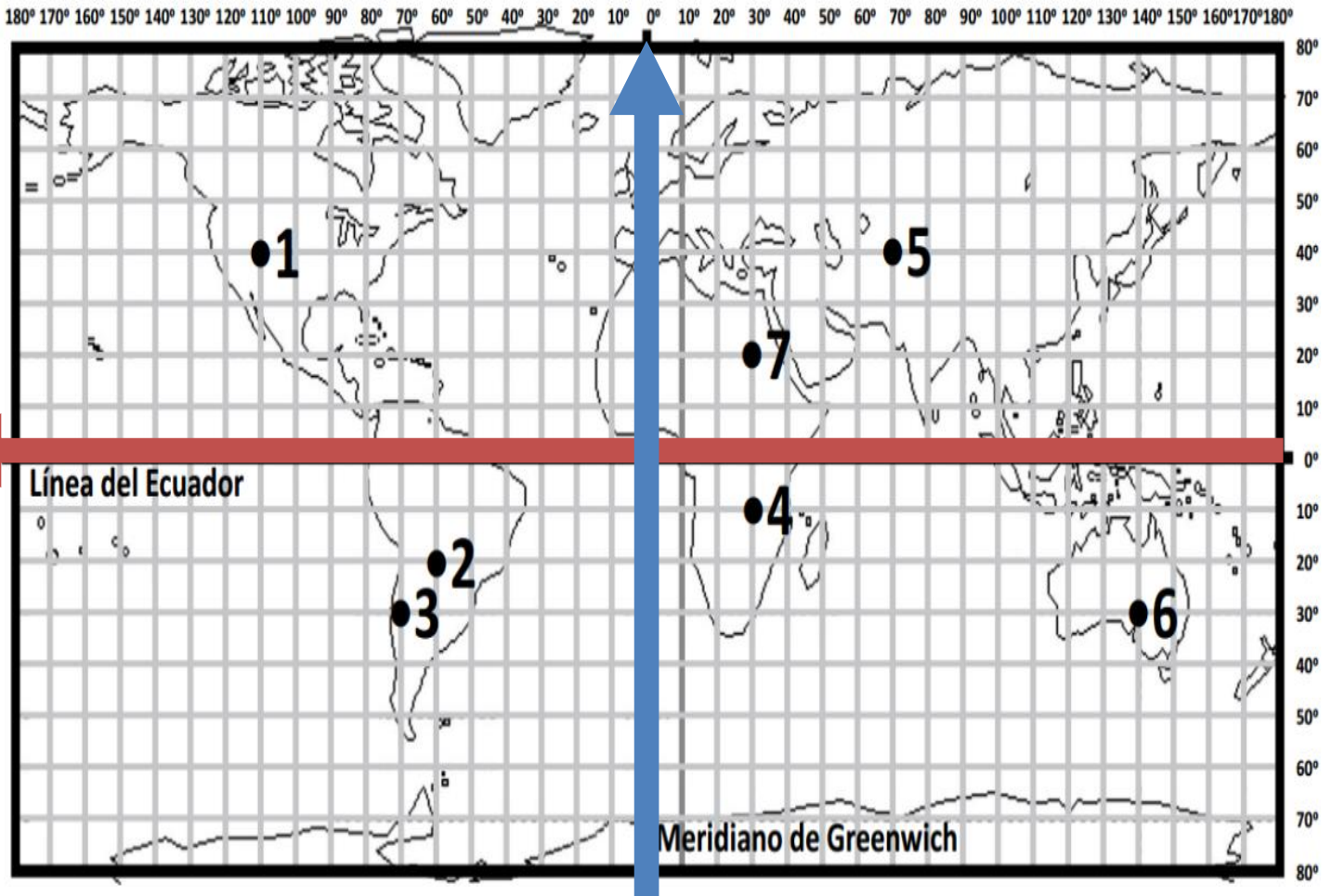
Ejemplo: ¿Entre que latitudes se encuentra América del sur?  
América del sur se encuentra entre la latitud 5° grados norte y 60° sur.

- 1.- ¿Entre que longitudes se encuentra América del sur?
- 2.- ¿Entre que latitudes se encuentra América del norte?
- 3.- ¿Entre que longitudes se encuentra América del norte?
- 4.- ¿Entre que latitudes y longitudes se encuentra América del centro?

**ESTA CORRECCIÓN INCLUYE RESPUESTAS EJEMPLARES Y 2 PAUTAS DE AUTOEVALUACIÓN Y PARA QUE USTED PUEDA SUPERVISAR LOS APRENDIZAJES DE DE HIJO/A**



**Actividad 1.- LOCALIZACIÓN ABSOLUTA (LATITUD Y LONGITUD)**



| PUNTOS  | LATITUD (NORTE O SUR) | LONGITUD (OESTE Y ESTE) |
|---------|-----------------------|-------------------------|
| PUNTO 1 | latitud 40° norte     | longitud 110° oeste     |
| PUNTO 2 | latitud 20° sur       | longitud 60° oeste      |
| PUNTO 3 | latitud 30° sur       | longitud 70° oeste      |
| PUNTO 4 | latitud 10° sur       | longitud 30° este       |
| PUNTO 5 | latitud 40° norte     | longitud 70° este       |
| PUNTO 6 | latitud 30° sur       | longitud 140° este      |
| PUNTO 7 | latitud 20° norte     | longitud 30° este       |

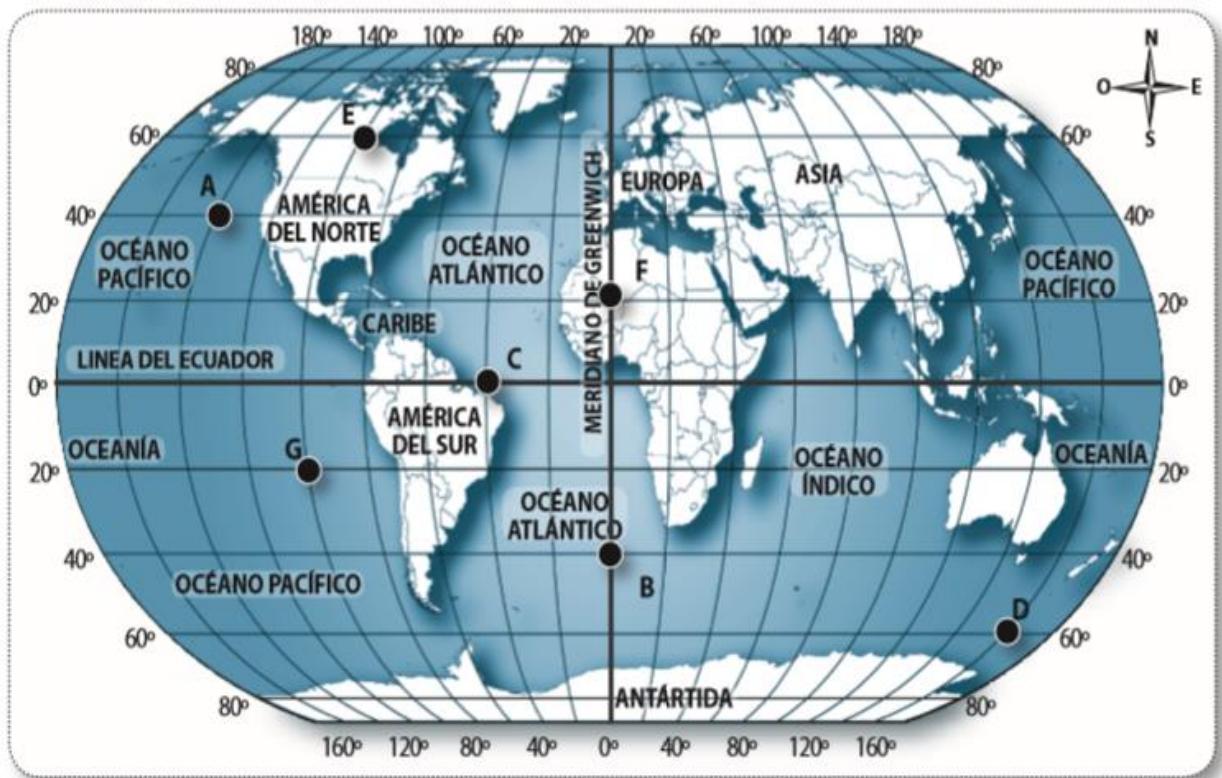
**AUTO-EVALUACIÓN ACTIVIDAD 1.****Actividad cuadro de coordenadas geográficas Latitud y Longitud**

| <b>CRITERIOS DE AUTOEVALUACIÓN</b>  | <b>SI<br/>(2 PUNTOS)</b> | <b>NO<br/>(1 PUNTO)</b>         |
|---|--------------------------|---------------------------------|
| 1.- El estudiante logró distinguir las coordenadas geográficas del <b>punto 2</b><br><b>(latitud 20° sur y longitud 60° oeste )</b> |                          |                                 |
| 2.- El estudiante logró distinguir las coordenadas geográficas del <b>punto 3</b><br><b>(latitud 30° sur y longitud 70° oeste)</b>  |                          |                                 |
| 3.- El estudiante logró distinguir las coordenadas geográficas del <b>punto 4</b><br><b>(latitud 10° sur y longitud 30° este)</b>   |                          |                                 |
| 4.- El estudiante logró distinguir las coordenadas geográficas del <b>punto 5</b><br><b>(latitud 40° norte y longitud 70° este)</b> |                          |                                 |
| 5.-El estudiante logró distinguir las coordenadas geográficas del <b>punto 6</b><br><b>(latitud 30° sur y longitud 140° este)</b>   |                          |                                 |
| 6.- El estudiante logró distinguir las coordenadas geográficas del <b>punto 7</b><br><b>(latitud 20° norte y longitud 30° este)</b> |                          |                                 |
| <b><u>Puntaje máximo:</u> 12 puntos</b>   |                          | <b><u>Puntaje obtenido:</u></b> |

**RANGOS DE NIVEL DE PORCENTAJE DE LOGRO**

| <b>AVANZADO<br/>PUNTOS: 12 - 10</b>  | <b>INTERMEDIO<br/>PUNTOS: 9 - 6</b>   | <b>INICIAL<br/>PUNTOS: 5 o menos</b>   |
|--|---|--|
| Cuando el/ estudiante manifiesta completamente el aprendizaje, acción y /o conducta esperada en el criterio de evaluación. | Cuando el/ la estudiante manifiesta o presenta solo parte del aprendizaje y / o conducta esperada en el criterio de evaluación. | Cuando el/la estudiante no manifiesta o no presenta parte importante del aprendizaje y / o conducta esperada en el criterio de evaluación) |

## Actividad 2.- DETERMINA LAS COORDENADAS GEOGRÁFICAS DE LAS LETRAS



### INFORMACIÓN IMPORTANTE:

Las coordenadas en este mapa van de 20° en 20°. Por lo que entre el 20° y el 60° está el 40. Entre el 60° y el 100° está el 80°. Entre el 80° y 120° está el 100°. Así sucesivamente.

### Completa:

- **Punto A:** Se encuentra en las coordenadas 40° latitud norte y 140° longitud oeste.
- **Punto B:** Se encuentra en las coordenadas 40° latitud sur y 0° longitud.
- **Punto C:** Se encuentra en las coordenadas 0° latitud y 40° longitud oeste.
- **Punto D:** Se encuentra en las coordenadas 60° latitud sur y 160° longitud este.
- **Punto E:** Se encuentra en las coordenadas 60° latitud norte y 100° longitud oeste.
- **Punto F:** Se encuentra en las coordenadas 20° latitud norte y 0° longitud.
- **Punto G:** Se encuentra en las coordenadas 20° latitud sur y 100° longitud oeste.

**AUTO-EVALUACIÓN ACTIVIDAD 2.**

Completa las oraciones con las coordenadas geográficas correspondientes.

| <b>CRITERIOS DE AUTOEVALUACIÓN</b>   | <b>SI<br/>(2<br/>PUNTOS)</b> | <b>NO<br/>(1 PUNTO)</b>         |
|--|------------------------------|---------------------------------|
| 1.- El estudiante logró distinguir las coordenadas geográficas de la <b>LETRA B</b><br>(Se encuentra en las coordenadas 40° latitud sur y 0° longitud)           |                              |                                 |
| 2.- El estudiante logró distinguir las coordenadas geográficas de la <b>LETRA C</b><br>(Se encuentra en las coordenadas 0° latitud y 40° longitud oeste)         |                              |                                 |
| 3.- El estudiante logró distinguir las coordenadas geográficas de la <b>LETRA D</b><br>(Se encuentra en las coordenadas 60° latitud sur y 160° longitud este)    |                              |                                 |
| 4.- El estudiante logró distinguir las coordenadas geográficas de la <b>LETRA E</b><br>(Se encuentra en las coordenadas 60° latitud norte y 100° longitud oeste) |                              |                                 |
| 5.- El estudiante logró distinguir las coordenadas geográficas de la <b>LETRA F</b><br>(Se encuentra en las coordenadas 20° latitud norte y 0° longitud)         |                              |                                 |
| 6.- El estudiante logró distinguir las coordenadas geográficas de la <b>LETRA G</b><br>(Se encuentra en las coordenadas 20° latitud sur y 100° longitud oeste)   |                              |                                 |
| <b><u>Puntaje máximo:</u> 12 puntos</b>  |                              | <b><u>Puntaje obtenido:</u></b> |

**RANGOS DE NIVEL DE PORCENTAJE DE LOGRO**

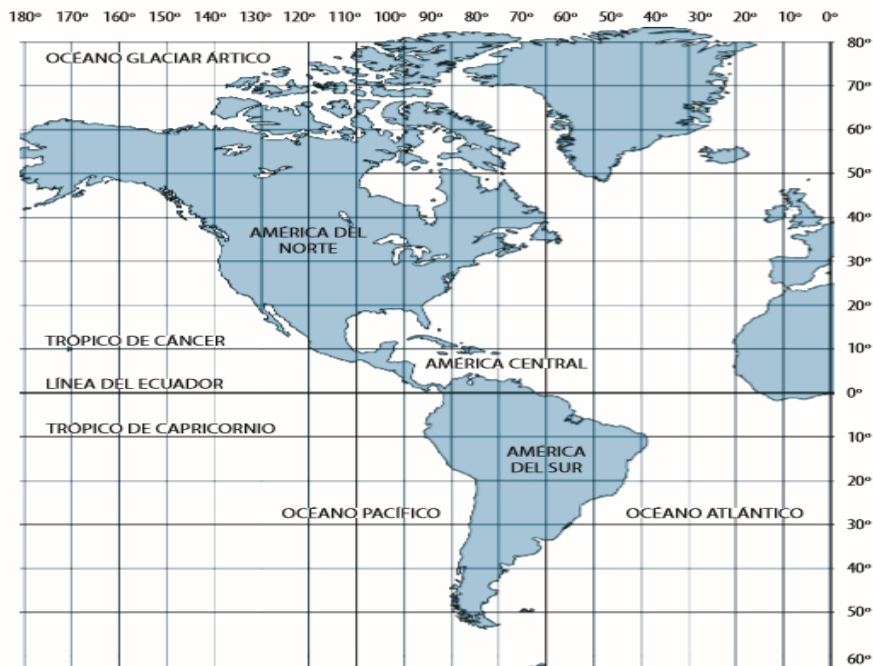
| <b>AVANZADO<br/>PUNTOS: 12 - 10</b>  | <b>INTERMEDIO<br/>PUNTOS: 9 - 6</b>   | <b>INICIAL<br/>PUNTOS: 5 o menos</b>   |
|--|---|--|
| Quando el/ estudiante manifiesta completamente el aprendizaje, acción y /o conducta esperada en el criterio de evaluación. | Quando el/ la estudiante manifiesta o presenta solo parte del aprendizaje y / o conducta esperada en el criterio de evaluación. | Quando el/la estudiante no manifiesta o no presenta parte importante del aprendizaje y / o conducta esperada en el criterio de evaluación) |

### Actividad 3.- La posición geográfica de América.

#### RESPUESTAS EJEMPLARES

##### La importancia de la posición geográfica de América

Nuestro Continente americano es una enorme extensión de tierra rodeada principalmente, por las aguas de océano Atlántico y el océano Pacífico. Atraviesa desde el extremo norte al extremo sur una enorme cantidad de paralelos y está ubicado al oeste del meridiano de Greenwiche.-  
Que **América** recorra tantas latitudes significa que su territorio está presente en todas las zonas climáticas y por ende, América es **muy rica y diversa en climas, flora, fauna y paisajes.**



#### RESPUESTAS EJEMPLARES

Responde de manera completa:

**Ejemplo: ¿Entre que latitudes se encuentra América del sur?**

**América del sur se encuentra entre la latitud 5° grados norte y 60° sur.**

1.- ¿Entre que longitudes se encuentra América del sur?

**América del sur se encuentra entre la Longitud 40° y 100° OESTE.**

2.- ¿Entre que latitudes se encuentra América del norte

**América del norte se encuentra entre la latitud 20° y 80° NORTE.**

3.- ¿Entre que longitudes se encuentra América del norte?

**América del norte se encuentra entre la Longitud 20° y 180° OESTE.**

4.- ¿Entre que latitudes y longitudes se encuentra América del centro?

**América central se encuentra entre la latitud 0° y 15° NORTE.**

**América central se encuentra entre la Longitud 85° y 120° OESTE.**

**TODA AMÉRICA SE  
ENCUENTRA EN EL  
HEMISFERIO  
OCCIDENTAL OESTE.**

**POR LO QUE SU  
LONGITUD SIEMPRE ES  
OESTE.**

**SOLO VARÍA ENTRE  
NORTE Y SUR.**