

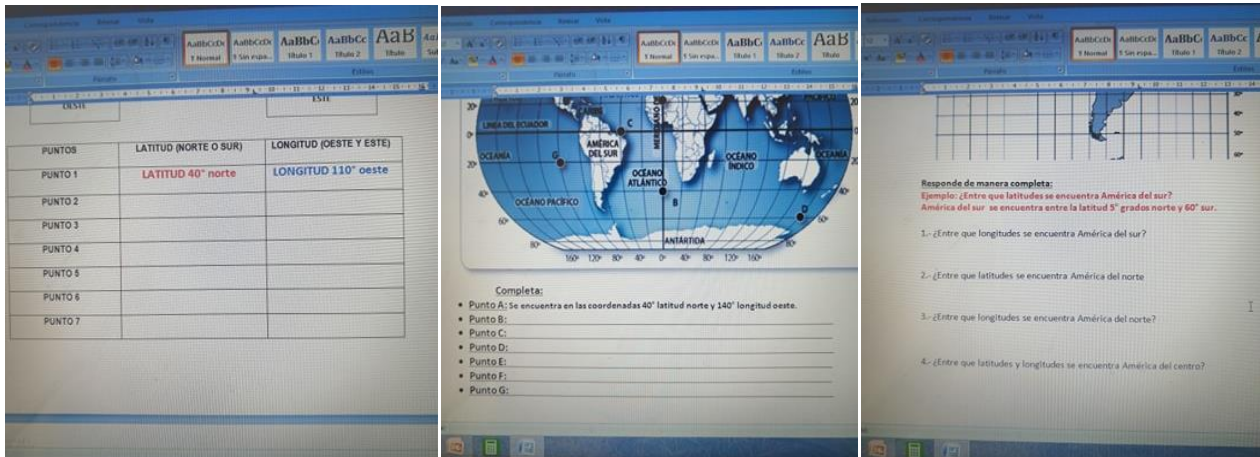
CORRECCIÓN Y AUTOEVALUACIÓN**PÁG. 12 – 17 /CUADERNILLO/GUÍA DE HISTORIA**

Semana 4 (6 al 10 de abril)

UNIDAD: América nuestro continente, diverso y generoso

OA 6 Ubicar lugares en un mapa, utilizando coordenadas geográficas como referencia (Latitud y longitud)

Imágenes de las actividades:



PUNTOS	LATITUD (NORTE O SUR)	LONGITUD (OESTE Y ESTE)
PUNTO 1	LATITUD 40° norte	LONGITUD 110° oeste
PUNTO 2		
PUNTO 3		
PUNTO 4		
PUNTO 5		
PUNTO 6		
PUNTO 7		

Completar:

- Punto A: se encuentra en las coordenadas 40° latitud norte y 140° longitud oeste.
- Punto B:
- Punto C:
- Punto D:
- Punto E:
- Punto F:
- Punto G:

Responde de manera completa:

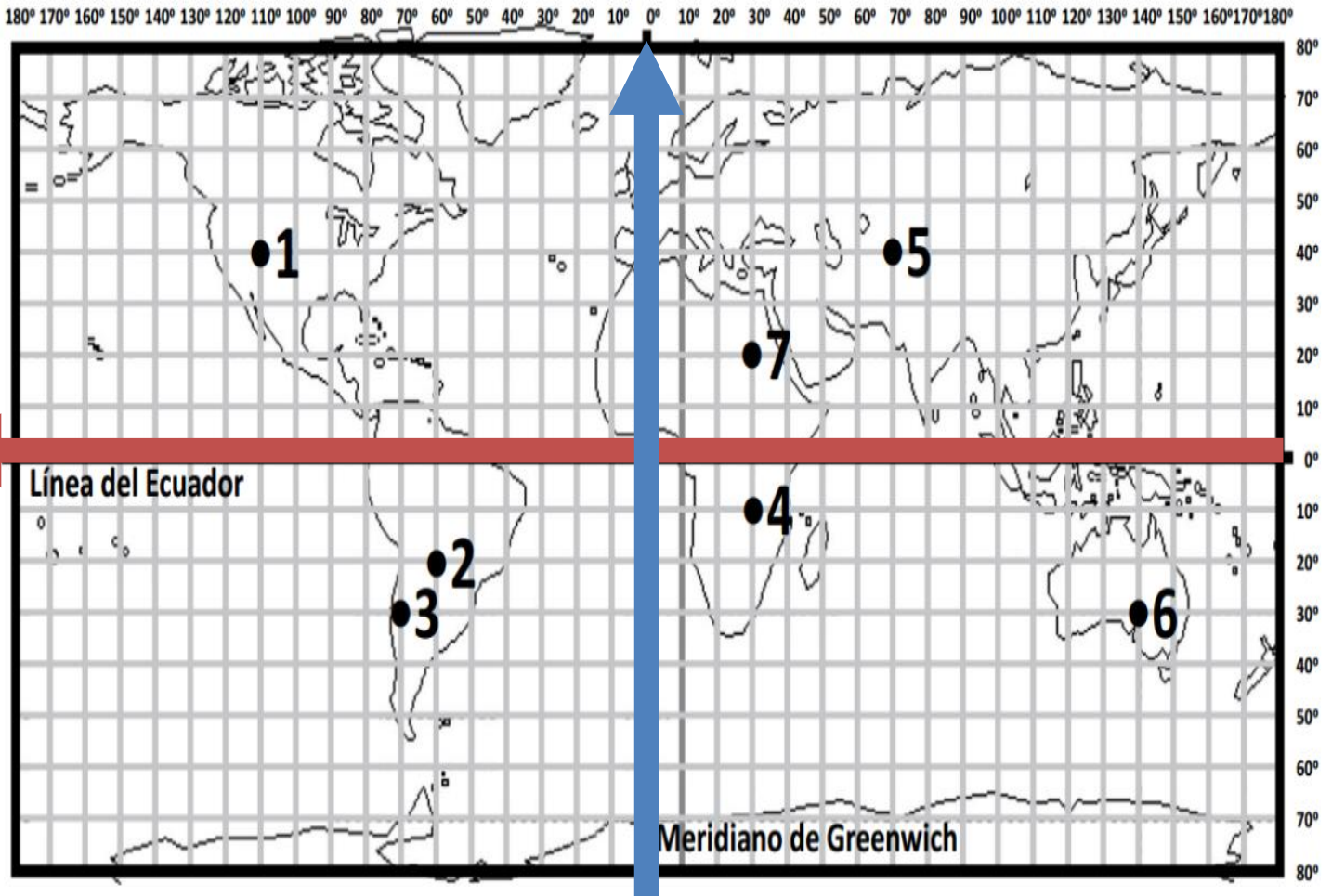
Ejemplo: ¿Entre que latitudes se encuentra América del sur?
América del sur se encuentra entre la latitud 5° grados norte y 60° sur.

- 1.- ¿Entre que longitudes se encuentra América del sur?
- 2.- ¿Entre que latitudes se encuentra América del norte?
- 3.- ¿Entre que longitudes se encuentra América del norte?
- 4.- ¿Entre que latitudes y longitudes se encuentra América del centro?

ESTA CORRECCIÓN INCLUYE RESPUESTAS EJEMPLARES Y 2 PAUTAS DE AUTOEVALUACIÓN Y PARA QUE USTED PUEDA SUPERVISAR LOS APRENDIZAJES DE DE HIJO/A



Actividad 1.- LOCALIZACIÓN ABSOLUTA (LATITUD Y LONGITUD)



PUNTOS	LATITUD (NORTE O SUR)	LONGITUD (OESTE Y ESTE)
PUNTO 1	latitud 40° norte	longitud 110° oeste
PUNTO 2	latitud 20° sur	longitud 60° oeste
PUNTO 3	latitud 30° sur	longitud 70° oeste
PUNTO 4	latitud 10° sur	longitud 30° este
PUNTO 5	latitud 40° norte	longitud 70° este
PUNTO 6	latitud 30° sur	longitud 140° este
PUNTO 7	latitud 20° norte	longitud 30° este

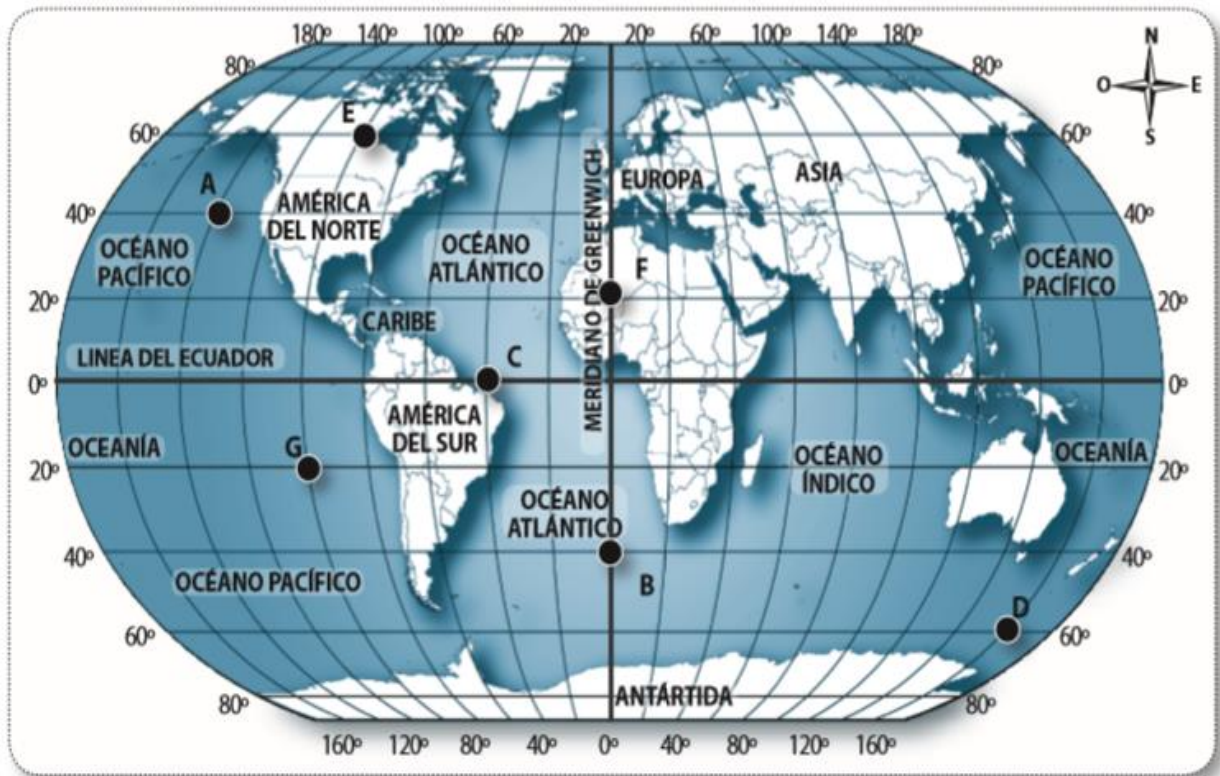
AUTO-EVALUACIÓN ACTIVIDAD 1.**Actividad cuadro de coordenadas geográficas Latitud y Longitud**

CRITERIOS DE AUTOEVALUACIÓN	SI (2 PUNTOS)	NO (1 PUNTO)
1.- El estudiante logró distinguir las coordenadas geográficas del punto 2 (latitud 20° sur y longitud 60° oeste)		
2.- El estudiante logró distinguir las coordenadas geográficas del punto 3 (latitud 30° sur y longitud 70° oeste)		
3.- El estudiante logró distinguir las coordenadas geográficas del punto 4 (latitud 10° sur y longitud 30° este)		
4.- El estudiante logró distinguir las coordenadas geográficas del punto 5 (latitud 40° norte y longitud 70° este)		
5.-El estudiante logró distinguir las coordenadas geográficas del punto 6 (latitud 30° sur y longitud 140° este)		
6.- El estudiante logró distinguir las coordenadas geográficas del punto 7 (latitud 20° norte y longitud 30° este)		
<u>Puntaje máximo:</u> 12 puntos		<u>Puntaje obtenido:</u>

RANGOS DE NIVEL DE PORCENTAJE DE LOGRO

AVANZADO PUNTOS: 12 - 10	INTERMEDIO PUNTOS: 9 - 6	INICIAL PUNTOS: 5 o menos
Quando el/ estudiante manifiesta completamente el aprendizaje, acción y /o conducta esperada en el criterio de evaluación.	Quando el/ la estudiante manifiesta o presenta solo parte del aprendizaje y / o conducta esperada en el criterio de evaluación.	Quando el/la estudiante no manifiesta o no presenta parte importante del aprendizaje y / o conducta esperada en el criterio de evaluación)

Actividad 2.- DETERMINA LAS COORDENADAS GEOGRÁFICAS DE LAS LETRAS



INFORMACIÓN IMPORTANTE:

Las coordenadas en este mapa van de 20° en 20°. Por lo que entre el 20° y el 60° está el 40. Entre el 60° y el 100° está el 80°. Entre el 80° y 120° está el 100°. Así sucesivamente.

Completa:

- **Punto A:** Se encuentra en las coordenadas 40° latitud norte y 140° longitud oeste.
- **Punto B:** Se encuentra en las coordenadas 40° latitud sur y 0° longitud.
- **Punto C:** Se encuentra en las coordenadas 0° latitud y 40° longitud oeste.
- **Punto D:** Se encuentra en las coordenadas 60° latitud sur y 160° longitud este.
- **Punto E:** Se encuentra en las coordenadas 60° latitud norte y 100° longitud oeste.
- **Punto F:** Se encuentra en las coordenadas 20° latitud norte y 0° longitud.
- **Punto G:** Se encuentra en las coordenadas 20° latitud sur y 100° longitud oeste.

AUTO-EVALUACIÓN ACTIVIDAD 2.

Completa las oraciones con las coordenadas geográficas correspondientes.

CRITERIOS DE AUTOEVALUACIÓN	SI (2 PUNTOS)	NO (1 PUNTO)
1.- El estudiante logró distinguir las coordenadas geográficas de la LETRA B (Se encuentra en las coordenadas 40° latitud sur y 0° longitud)		
2.- El estudiante logró distinguir las coordenadas geográficas de la LETRA C (Se encuentra en las coordenadas 0° latitud y 40° longitud oeste)		
3.- El estudiante logró distinguir las coordenadas geográficas de la LETRA D (Se encuentra en las coordenadas 60° latitud sur y 160° longitud este)		
4.- El estudiante logró distinguir las coordenadas geográficas de la LETRA E (Se encuentra en las coordenadas 60° latitud norte y 100° longitud oeste)		
5.- El estudiante logró distinguir las coordenadas geográficas de la LETRA F (Se encuentra en las coordenadas 20° latitud norte y 0° longitud)		
6.- El estudiante logró distinguir las coordenadas geográficas de la LETRA G (Se encuentra en las coordenadas 20° latitud sur y 100° longitud oeste)		
<u>Puntaje máximo:</u> 12 puntos		<u>Puntaje obtenido:</u>

RANGOS DE NIVEL DE PORCENTAJE DE LOGRO

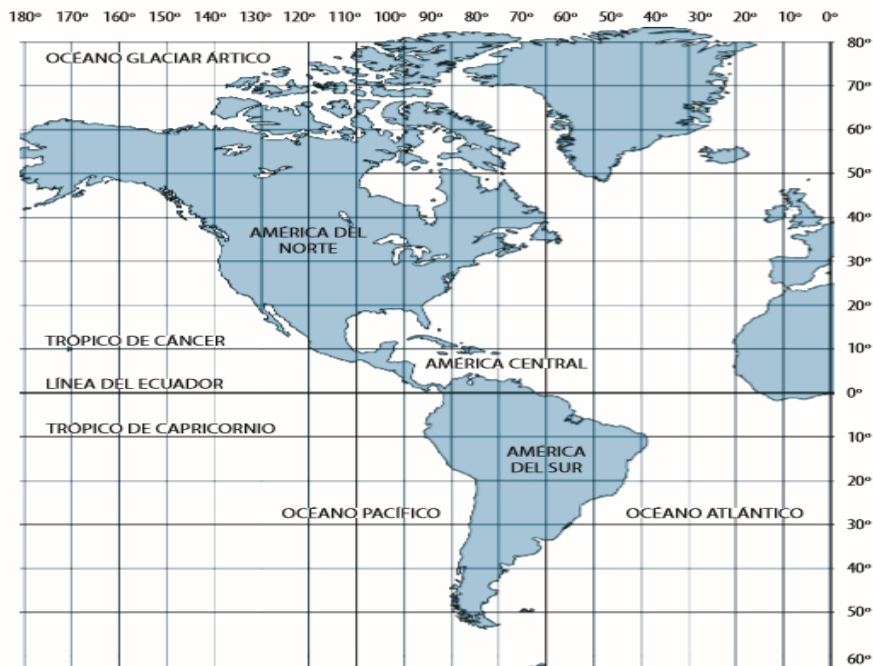
AVANZADO PUNTOS: 12 - 10	INTERMEDIO PUNTOS: 9 - 6	INICIAL PUNTOS: 5 o menos
Quando el/ estudiante manifiesta completamente el aprendizaje, acción y /o conducta esperada en el criterio de evaluación.	Quando el/ la estudiante manifiesta o presenta solo parte del aprendizaje y / o conducta esperada en el criterio de evaluación.	Quando el/la estudiante no manifiesta o no presenta parte importante del aprendizaje y / o conducta esperada en el criterio de evaluación)

Actividad 3.- La posición geografica de América.

RESPUESTAS EJEMPLARES

La importancia de la posición geográfica de América

Nuestro Continente americano es una enorme extensión de tierra rodeada principalmente, por las aguas de océano Atlántico y el océano Pacífico. Atraviesa desde el extremo norte al extremo sur una enorme cantidad de paralelos y está ubicado al oeste del meridiano de Greenwiche.-
Que **América** recorra tantas latitudes significa que su territorio está presente en todas las zonas climáticas y por ende, América es **muy rica y diversa en climas, flora, fauna y paisajes.**



RESPUESTAS EJEMPLARES

Responde de manera completa:

Ejemplo: ¿Entre que latitudes se encuentra América del sur?

América del sur se encuentra entre la latitud 5° grados norte y 60° sur.

1.- ¿Entre que longitudes se encuentra América del sur?

América del sur se encuentra entre la Longitud 40° y 100° OESTE.

2.- ¿Entre que latitudes se encuentra América del norte

América del norte se encuentra entre la latitud 20° y 80° NORTE.

3.- ¿Entre que longitudes se encuentra América del norte?

América del norte se encuentra entre la Longitud 20° y 180° OESTE.

4.- ¿Entre que latitudes y longitudes se encuentra América del centro?

América central se encuentra entre la latitud 0° y 15° NORTE.

América central se encuentra entre la Longitud 85° y 120° OESTE.

**TODA AMÉRICA SE
ENCUENTRA EN EL
HEMISFERIO
OCCIDENTAL OESTE.**

**POR LO QUE SU
LONGITUD SIEMPRE ES
OESTE.**

**SOLO VARÍA ENTRE
NORTE Y SUR.**