

Recuerda: No es necesario imprimir la guía, puedes copiar en tu cuaderno el resultado de cada ejercicio

Guía de Matemáticas: Adición

Nombre: _____


Fecha: 01 - 04 - 2020

Prof.: Waleska Cortés

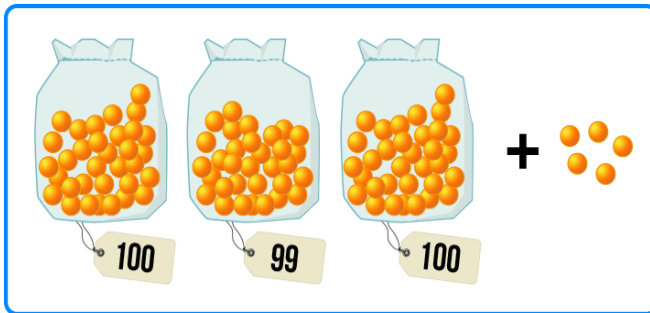
Curso: 4° _____

OA: Demostrar que comprende la adición: Aplicando el algoritmo.


1.- Si cada cinta o etiqueta indica la cantidad de elementos que hay, entonces responde:




Hay **597** flores



Hay **304** pelotitas



Hay **397** uvas



Hay **452** dulces

2.- Resuelve las siguientes adiciones usando la tabla posicional.

a) $5.009 + 4.677 + 1.888 =$

b) $9.004 + 95 + 346 =$

c) $7 + 679 + 9.999 =$

d) $4.534 + 2.893 =$

	1	1	2	
DM	UM	C	D	U
	5	0	0	9
	4	6	7	7
	1	8	8	8
1	1	5	7	4

		1	1	
DM	UM	C	D	U
	9	0	0	4
			9	5
		3	4	6
	9	4	4	5

	1	1	2	
DM	UM	C	D	U
				7
		6	7	9
	9	9	9	9
1	0	6	8	5

	1	1		
DM	UM	C	D	U
	4	5	3	4
	2	8	9	3
	7	4	2	7