




Guía de Matemáticas: Adición

Nombre:	
Fecha: 07 - 04 - 2020	Curso: 3° B
OA: Demostrar que comprende la adición: Aplicando el algoritmo.	

1.- En una tienda ofrecen los siguientes artículos:

 Set mini balde \$490	 Muñeco de madera \$80	 Títere animal goma \$165
 Dinosaurio a cuerda \$520	 Libreta gato \$250	 Corchetera \$300

Suma los precios de las siguientes combinaciones de productos, usa la tabla posicional:

																																																														
<table border="1"> <tr><td></td><td>C</td><td>D</td><td>U</td></tr> <tr><td></td><td></td><td></td><td></td></tr> <tr><td>+</td><td></td><td></td><td></td></tr> <tr><td></td><td></td><td></td><td></td></tr> <tr><td></td><td></td><td></td><td></td></tr> </table>		C	D	U					+												<table border="1"> <tr><td></td><td>C</td><td>D</td><td>U</td></tr> <tr><td></td><td></td><td></td><td></td></tr> <tr><td>+</td><td></td><td></td><td></td></tr> <tr><td></td><td></td><td></td><td></td></tr> <tr><td></td><td></td><td></td><td></td></tr> </table>		C	D	U					+												<table border="1"> <tr><td></td><td>C</td><td>D</td><td>U</td></tr> <tr><td></td><td></td><td></td><td></td></tr> <tr><td>+</td><td></td><td></td><td></td></tr> <tr><td></td><td></td><td></td><td></td></tr> <tr><td></td><td></td><td></td><td></td></tr> </table>		C	D	U					+											
	C	D	U																																																											
+																																																														
	C	D	U																																																											
+																																																														
	C	D	U																																																											
+																																																														
Cuestan: _____	Cuestan: _____	Cuestan: _____																																																												

2.- Resuelve las siguientes adiciones usando la tabla posicional:

- a) 1.456 + 2.125 =
- b) 3.567 + 2.504 =
- c) 4.356 + 309 =