

## CORRECCIÓN Y RETROALIMENTACIÓN

### PRIMERA PARTE DE LA GUÍA /CUADERNILLO DE HISTORIA

(FICHA 1 y 2) pág. 1 -12

#### UNIDAD 1: América nuestro continente, diverso y generoso

Semana 30 de marzo al 3 de abril

#### OBJETIVOS CURRICULARES TRABAJADOS ESTA SEMANA

**OA 7** Distinguir hemisferios, círculo del Ecuador, trópicos, polos, continentes y océanos del planeta en mapas y globos terráqueos. (3° BÁSICO)

**OA 6** Ubicar lugares en un mapa, utilizando coordenadas geográficas como referencia (paralelos y meridianos). (4° BÁSICO)

**En esta semana el estudiante debería estar aprendiendo a:**

##### Ficha 1

- 1.- **Rotular** en mapas o globos terráqueos la línea del Ecuador, los trópicos, los círculos polares y los polos.
- 2.- **Distinguir** los hemisferios norte y sur.
- 3.- **Ubicar** los continentes y los océanos en mapas o en globos terráqueos.
- 4.- **Responder preguntas** de ubicación relativa, usando globos terráqueos y mapas, y referencias como la línea del Ecuador, los hemisferios, los puntos cardinales, los continentes y los océanos.

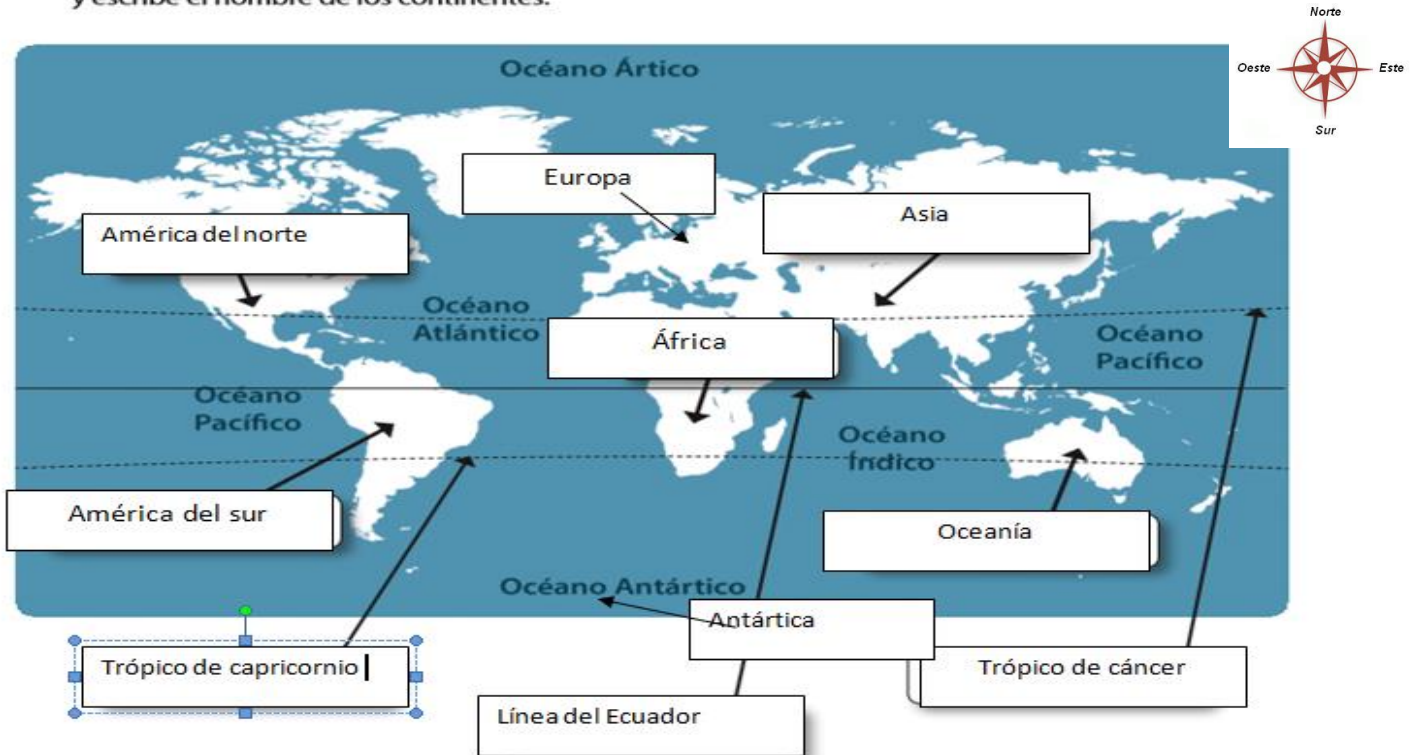
##### Ficha 2

- 5.- **Distinguir** paralelos y meridianos en un mapa y reconocen las principales líneas de referencia de la Tierra (meridiano cero o de Greenwich, círculo del Ecuador, entre otras).
- 6.- **Identificar** las principales características de los paralelos y los meridianos.
- 7.- **Dibujar** paralelos y meridianos en un mapa, en un planisferio o en una maqueta.
- 8.- **Definir** una coordenada geográfica como el punto donde se interseca un paralelo con un meridiano

**ESTA REVISIÓN INCLUYE PAUTAS DE AUTOEVALUACIÓN PARA QUE USTED PUEDA EVALUAR LOS APRENDIZAJES DE DE HIJO/A**

GUÍA/CUADERNILLO 4BÁSICO  
FICHA 1

- Identifica en el mapa adjunto los puntos cardinales y líneas de referencia que se destacan (hemisferio norte, sur, línea del ecuador, trópico de cáncer, trópico de capricornio, polo norte y sur) y escribe el nombre de los continentes.



Responde:

¿De qué manera describirías la ubicación relativa de América? (Da 3 descripciones)

**Ejemplo: América se encuentra rodeada de dos océanos. Al oeste el océano pacifico y al este el océano atlántico.**

Ahora te toca a ti!

- 1.-
- 2.-
- 3.-

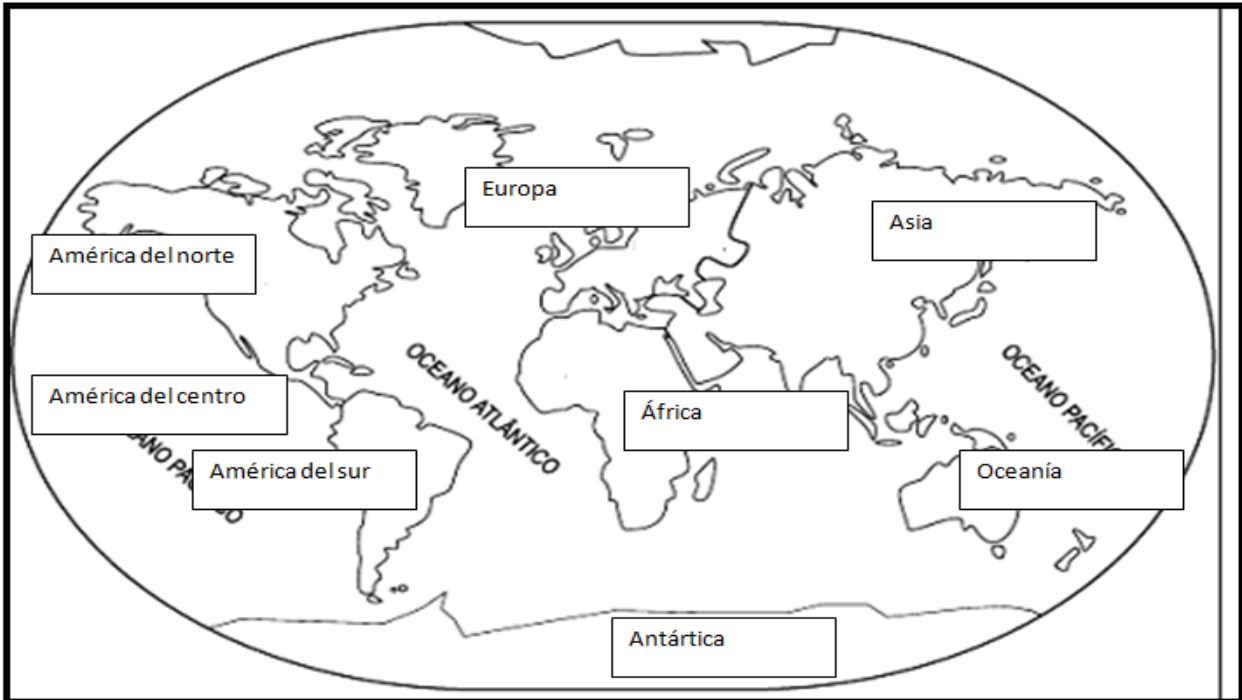
En la parte de las oraciones la idea es que haya usado los puntos cardinales para ubicar a América con respecto al mundo. Podrían ser varias las alternativas correctas por lo que queda a libre disposición. Solo se sugiere ocupar puntos cardinales para localizar a América.

Ejemplo:

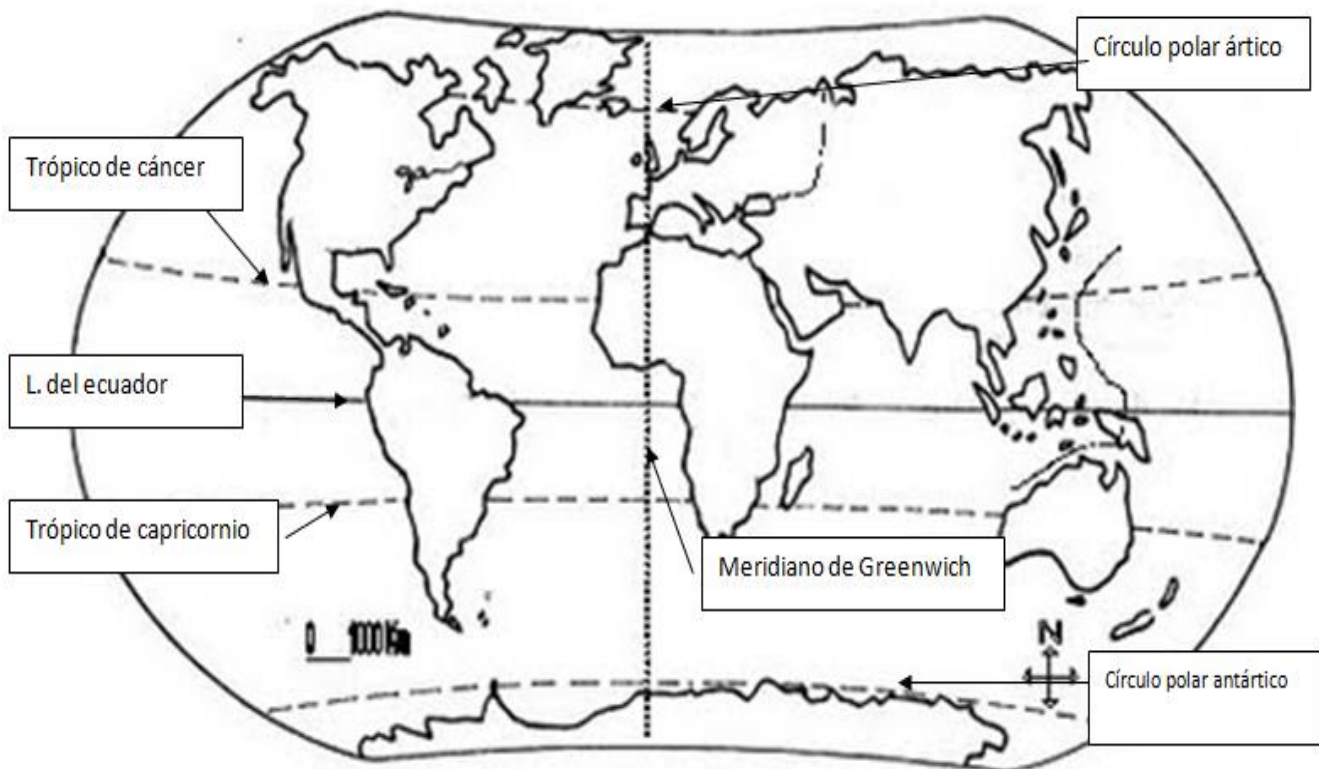
- 1.- Al este de América esta África y al oeste tiene a Asia.
- 2.- Al sur de América encontramos el continente antártico.
- 3.- América del sur es cruzada de este a oeste por el trópico de capricornio.

Repite la actividad:

**Actividad 1.-** Escribe el nombre de los 6 continentes y subdivide a América en norte, centro y sur.



**Actividad 2.-** Escribe el nombre de las líneas imaginarias (línea del ecuador, meridiano de Greenwich, trópico de cáncer y capricornio, círculo polar ártico y círculo polar antártico).



**Auto-Evaluación Ficha 1**  
**(Ubicación de continentes, líneas imaginarias y ubicación absoluta).**

CRITERIOS DE AUTOEVALUACIÓN	SI (2 PUNTOS)	NO (1 PUNTO)
1.- Identificó correctamente los puntos cardinales en el mapa de la ficha 1		
2.- Rotuló correctamente la línea del ecuador en el mapa.		
3.- Rotuló correctamente la línea el meridiano de Greenwich		
4.- Rotuló correctamente el trópico de cáncer.		
5.- Rotuló correctamente el trópico de capricornio.		
6.- Ubicó correctamente el polo norte.		
7.- Ubicó correctamente el polo sur.		
8.- Ubicó el nombre del continente africano.		
9.- Ubique el nombre del continente americano.		
10.- Ubique el nombre del continente asiático.		
11.- Ubique el nombre del continente oceánico.		
12.- Ubique el nombre del continente antártico.		
13.- Ubique el nombre del continente europeo.		

**14.- Pregunta de desarrollo (ubicación relativa)**

**Ejemplo:** América se encuentra rodeada de dos océanos. Al oeste el océano pacifico y al este el océano atlántico.

Logrado (3 puntos)	Medianamente logrado (2 puntos)	Por lograr (1 punto)
El estudiante señalo 3 descripciones relacionadas a la ubicación relativa de América; considerando puntos cardinales, océanos, continentes o líneas imaginarias.	El estudiante señalo solo 2 descripciones relacionadas a la ubicación relativa de América; considerando puntos cardinales, océanos, continentes o líneas imaginarias.	El estudiante señalo solo 1 descripción relacionadas a la ubicación relativa de América; considerando puntos cardinales, océanos, continentes o líneas imaginarias.

**Puntaje máximo: 29 puntos**

**Puntaje obtenido:**

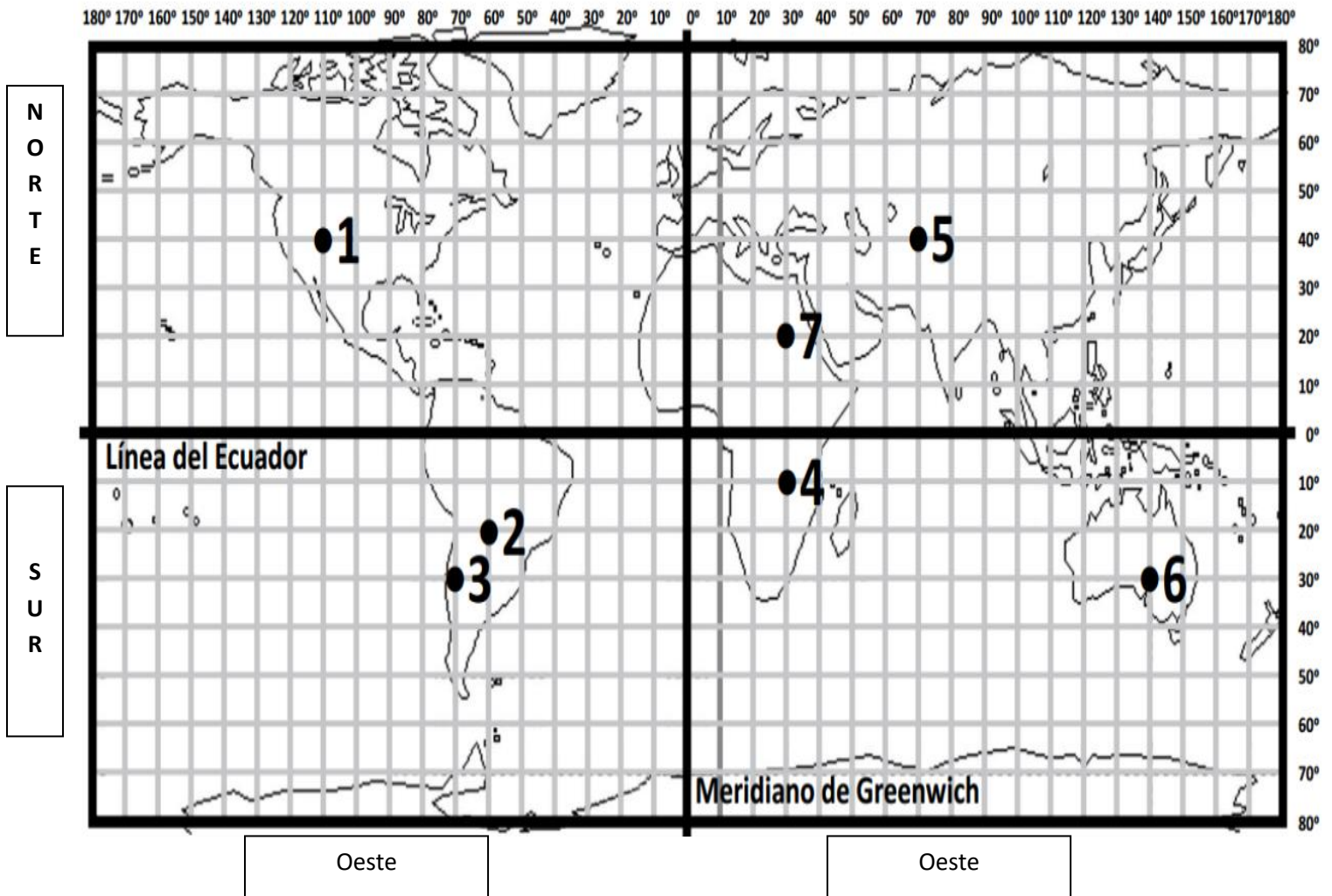
**Nota:**

**Escala de puntaje:**

**RANGOS DE NIVEL DE PORCENTAJE DE LOGRO POR EVALUACIÓN**

INICIAL NOTA: 2,0 – 4,0	INTERMEDIO NOTA: 4,1- 5,9	AVANZADO NOTA: 6,0 - 70
Cuando el/la estudiante no manifiesta o no presenta parte importante del aprendizaje y / o conducta esperada en el criterio de evaluación)	Cuando el/ la estudiante manifiesta o presenta solo parte del aprendizaje y / o conducta esperada en el criterio de evaluación.	Cuando el/ estudiante manifiesta completamente el aprendizaje, acción y /o conducta esperada en el criterio de evaluación.

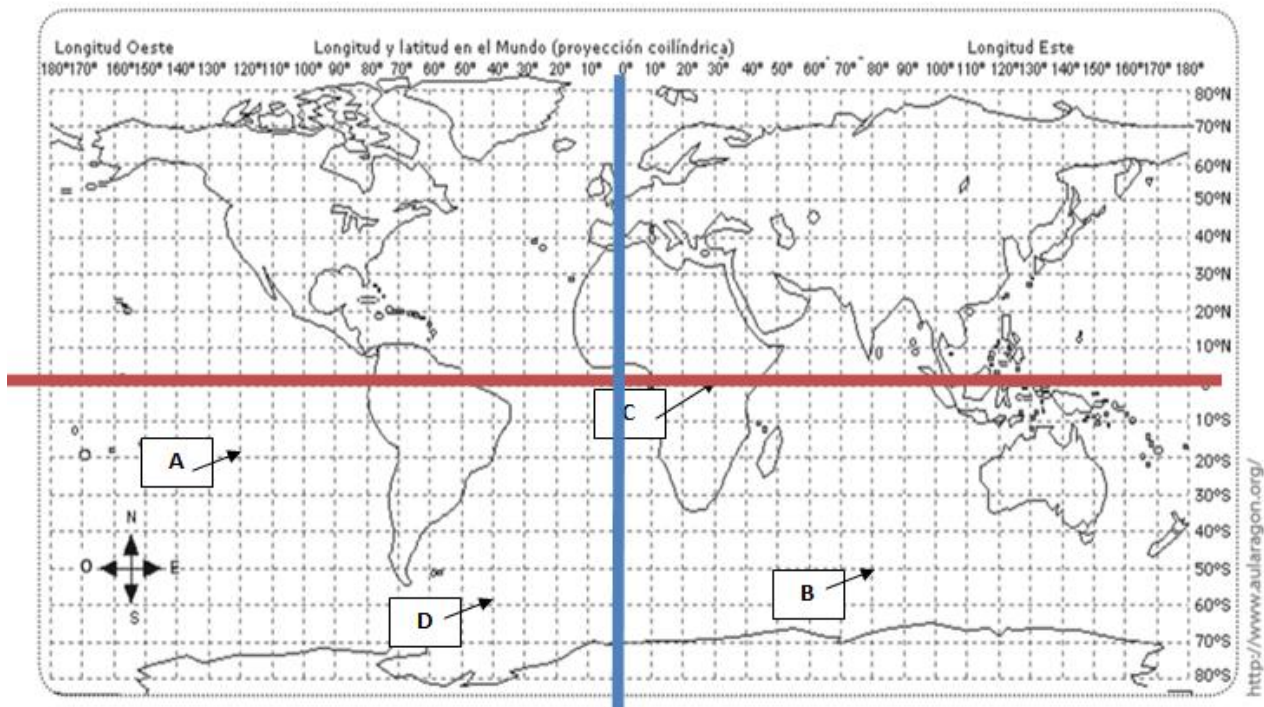
GUÍA/CUADERNILLO 4BÁSICO  
FICHA 2



PUNTOS	PARALELO (NORTE O SUR)	MERIDIANO (OESTE Y ESTE)
PUNTO 1	Paralelo 40° norte	Meridiano 110° oeste
PUNTO 2	Paralelo 20° sur	Meridiano 60° oeste
PUNTO 3	Paralelo 30° sur	Meridiano 70° oeste
PUNTO 4	Paralelo 10° sur	Meridiano 30° este
PUNTO 5	Paralelo 40° norte	Meridiano 70° este
PUNTO 6	Paralelo 30° sur	Meridiano 140° este
PUNTO 7	Paralelo 20° norte	Meridiano 30° este

**Actividad 1.**

- Marca con rojo la línea del Ecuador y con azul el Meridiano de Greenwich.
- Ubica los siguientes puntos, con sus letras respectivas, en el siguiente planisferio.



**PUNTOS A UBICAR**

- A** 20° Latitud Norte - 120° Longitud Oeste.
- B** 50° Latitud Sur – 80° Longitud Este.
- C** 0° Latitud – 30° Longitud Este.
- D** 60° Latitud Sur – 40° Longitud Oeste.

**Distingue entre que paralelos y que meridianos se encuentra América.**

América se encuentra entre el paralelo 50° sur y el paralelo 80° norte. América también se encuentra entre el meridiano 180° oeste y el meridiano 20° este.

**Auto-Evaluación Ficha 2**

**(Localización de coordenadas geográficas, distinción de hemisferios, paralelos y meridianos).**

<b>CRITERIOS DE AUTOEVALUACIÓN</b>	<b>SI (2 PUNTOS)</b>	<b>NO (1 PUNTO)</b>
1.- El estudiante logró distinguir las coordenadas geográficas del <b>punto 2</b> (paralelo 20° sur y meridiano 60° oeste)		
2.- El estudiante logró distinguir las coordenadas geográficas del <b>punto 3</b> (paralelo 30° sur y meridiano 70° oeste)		
3.- El estudiante logró distinguir las coordenadas geográficas del <b>punto 4</b> (paralelo 10° sur y meridiano 30° este)		
4.- El estudiante logró distinguir las coordenadas geográficas del <b>punto 5</b> (paralelo 40° norte y meridiano 70° este)		
5.-El estudiante logró distinguir las coordenadas geográficas del <b>punto 6</b> (paralelo 30° sur y meridiano 140° este)		
6.- El estudiante logró distinguir las coordenadas geográficas del <b>punto 7</b> (paralelo 20° norte y meridiano 30° este)		
7.- El estudiante marcó con rojo la línea del Ecuador 0°		
8.- El estudiante marcó con azul el meridiano de Greenwich 0°		
9.- El estudiante ubico correctamente el <b>punto A</b> en el planisferio		
10.-El estudiante ubico correctamente el <b>punto B</b> en el planisferio		
11.-El estudiante ubico correctamente el <b>punto C</b> en el planisferio		
12.-El estudiante ubico correctamente el <b>punto D</b> en el planisferio		
13.-El estudiante distinguió entre que paralelos se encuentra América. (América se encuentra entre el paralelo 50° sur y el paralelo 80° norte)		
14.-El estudiante distinguió entre que meridianos se encuentra América. (América se encuentra entre el meridiano 180° oeste y el meridiano 20° este)		

**Puntaje máximo: 28 puntos**

**Puntaje obtenido:**

**Nota:**

**Escala de puntaje:**

**RANGOS DE NIVEL DE PORCENTAJE DE LOGRO POR EVALUACIÓN**

INICIAL NOTA: 2,0 – 4,0	INTERMEDIO NOTA: 4,1- 5,9	AVANZADO NOTA: 6,0 - 70
Cuando el/la estudiante no manifiesta o no presenta parte importante del aprendizaje y / o conducta esperada en el criterio de evaluación)	Cuando el/ la estudiante manifiesta o presenta solo parte del aprendizaje y / o conducta esperada en el criterio de evaluación.	Cuando el/ estudiante manifiesta completamente el aprendizaje, acción y /o conducta esperada en el criterio de evaluación.

Con esta escala usted podría evaluar la calificación que su hijo/a obtuvo en estas actividades. Recuerde que la exigencia de nuestra escuela es al 60%.



## E s c a l a   d e   N o t a s

25 PUNTOS				26 PUNTOS				27 PUNTOS				28 PUNTOS				29 PUNTOS			
Pto	50%	55%	60%	Pto	50%	55%	60%	Pto	50%	55%	60%	Pto	50%	55%	60%	Pto	50%	55%	60%
Max	Difical	Difical	Difical	Max	Difical	Difical	Difical	Max	Difical	Difical	Difical	Max	Difical	Difical	Difical	Max	Difical	Difical	Difical
Pto	NOTA	NOTA	NOTA	Pto	NOTA	NOTA	NOTA	Pto	NOTA	NOTA	NOTA	Pto	NOTA	NOTA	NOTA	Pto	NOTA	NOTA	NOTA
0	2,0	2,0	2,0	0	2,0	2,0	2,0	0	2,0	2,0	2,0	0	2,0	2,0	2,0	0	2,0	2,0	2,0
1	2,2	2,1	2,1	1	2,2	2,1	2,1	1	2,1	2,1	2,1	1	2,1	2,1	2,1	1	2,1	2,1	2,1
2	2,3	2,3	2,3	2	2,3	2,3	2,3	2	2,3	2,3	2,2	2	2,3	2,3	2,2	2	2,3	2,3	2,2
3	2,5	2,4	2,4	3	2,5	2,4	2,4	3	2,4	2,4	2,4	3	2,4	2,4	2,4	3	2,4	2,4	2,3
4	2,6	2,6	2,5	4	2,6	2,6	2,5	4	2,6	2,5	2,5	4	2,6	2,5	2,5	4	2,6	2,5	2,5
5	2,8	2,7	2,7	5	2,8	2,7	2,6	5	2,7	2,7	2,6	5	2,7	2,6	2,6	5	2,7	2,6	2,6
6	3,0	2,9	2,8	6	2,9	2,8	2,8	6	2,9	2,8	2,7	6	2,9	2,8	2,7	6	2,8	2,8	2,7
7	3,1	3,0	2,9	7	3,1	3,0	2,9	7	3,0	2,9	2,9	7	3,0	2,9	2,8	7	3,0	2,9	2,8
8	3,3	3,2	3,1	8	3,2	3,1	3,0	8	3,2	3,1	3,0	8	3,1	3,0	3,0	8	3,1	3,0	2,9
9	3,4	3,3	3,2	9	3,4	3,3	3,2	9	3,3	3,2	3,1	9	3,3	3,2	3,1	9	3,2	3,1	3,0
10	3,6	3,5	3,3	10	3,5	3,4	3,3	10	3,5	3,3	3,2	10	3,4	3,3	3,2	10	3,4	3,3	3,1
11	3,8	3,6	3,5	11	3,7	3,5	3,4	11	3,6	3,5	3,4	11	3,6	3,4	3,3	11	3,5	3,4	3,3
12	3,9	3,7	3,6	12	3,8	3,7	3,5	12	3,8	3,6	3,5	12	3,7	3,6	3,4	12	3,7	3,5	3,4
13	4,1	3,9	3,7	13	4,0	3,8	3,7	13	3,9	3,8	3,6	13	3,9	3,7	3,5	13	3,8	3,6	3,5
14	4,4	4,1	3,9	14	4,2	4,0	3,8	14	4,1	3,9	3,7	14	4,0	3,8	3,7	14	3,9	3,8	3,6
15	4,6	4,3	4,0	15	4,5	4,2	3,9	15	4,3	4,0	3,9	15	4,2	3,9	3,8	15	4,1	3,9	3,7
16	4,8	4,6	4,3	16	4,7	4,4	4,1	16	4,6	4,3	4,0	16	4,4	4,1	3,9	16	4,3	4,0	3,8
17	5,1	4,9	4,6	17	4,9	4,7	4,4	17	4,8	4,5	4,2	17	4,6	4,4	4,1	17	4,5	4,2	4,0
18	5,3	5,1	4,9	18	5,2	4,9	4,7	18	5,0	4,8	4,5	18	4,9	4,6	4,3	18	4,7	4,5	4,2
19	5,6	5,4	5,2	19	5,4	5,2	5,0	19	5,2	5,0	4,8	19	5,1	4,9	4,6	19	4,9	4,7	4,4
20	5,8	5,7	5,5	20	5,6	5,5	5,3	20	5,4	5,3	5,1	20	5,3	5,1	4,9	20	5,1	4,9	4,7
21	6,0	5,9	5,8	21	5,8	5,7	5,6	21	5,7	5,5	5,3	21	5,5	5,3	5,1	21	5,3	5,2	4,9
22	6,3	6,2	6,1	22	6,1	6,0	5,8	22	5,9	5,8	5,6	22	5,7	5,6	5,4	22	5,6	5,4	5,2
23	6,5	6,5	6,4	23	6,3	6,2	6,1	23	6,1	6,0	5,9	23	5,9	5,8	5,7	23	5,8	5,6	5,4
24	6,8	6,7	6,7	24	6,5	6,5	6,4	24	6,3	6,3	6,2	24	6,1	6,0	5,9	24	6,0	5,9	5,7
25	7,0	7,0	7,0	25	6,8	6,7	6,7	25	6,6	6,5	6,4	25	6,4	6,3	6,2	25	6,2	6,1	6,0
				26	7,0	7,0	7,0	26	6,8	6,8	6,7	26	6,6	6,5	6,5	26	6,4	6,3	6,2
								27	7,0	7,0	7,0	27	6,8	6,8	6,7	27	6,6	6,5	6,5
												28	7,0	7,0	7,0	28	6,8	6,8	6,7
																29	7,0	7,0	7,0